



組	番	名前
---	---	----

## 3 分数と整数のかけ算とわり算 (分数÷整数の計算)

1 計算しましょう。

①  $\frac{3}{4} \div 2$

②  $\frac{4}{15} \div 3$

③  $1\frac{9}{10} \div 7$

④  $2\frac{1}{6} \div 3$

⑤  $\frac{3}{8} \div 3$

⑥  $\frac{3}{7} \div 12$

⑦  $2\frac{1}{7} \div 15$

⑧  $3\frac{3}{10} \div 6$

2 次の問いに答えましょう。

①  $\frac{4}{5}$  kgのさとうを4つのふくろに同じように分けると、1ふくろの重さは何kgでしょうか。

式

答え ( )

②  $1\frac{5}{16}$  m<sup>2</sup>の花だんを、同じ広さになるように3つに分けて、それぞれ、きく・コスモス・カーネーションを植えると、それぞれ何m<sup>2</sup>ずつになるでしょうか。

式

答え ( )

③  $1\frac{1}{4}$  mのひもの、3つ分の長さは何mでしょうか。

式




答え ( )

④  $2\frac{4}{7}$  mのひものを、同じ長さに3つにたたおと、その1つ分の長さは何mでしょうか。

式

答え ( )

ひとつだけ ぬりましょう。

 やさしかった	 ふつう	 むずかしかった
---	--	--