



組	番	名前
---	---	----

## 2 文字と式

1 次の文を読んで、下の問いに答えましょう。

同じ数ずつ入っているチョコレートの箱が4箱とばらが3個あります。  
全部出して数えたら43個でした。

① 1箱に入っているチョコの数を $x$ 個として、上の文を、 $x$ を使った式で表しましょう。

②  $x$  (1箱に入っているチョコの数) はいくつになりますか。

$x$ に8, 9, 10, 11, …を入れてチョコレート全部の個数を、次の表を使って調べましょう。

$x$	8	9	10	11			
$x \times 4$							
$x \times 4 + 3$							

答え ( )

2  $x$ にあてはまる数を、表に数を入れて求めましょう。

①  $x \times 2 + 6 = 20$

$x$	5	6	7	8	9	10
$x \times 2$						
$x \times 2 + 6$						


答え ( )


②  $x \times 7 - 4 = 87$


$x$	10	11	12	13	14	15
$x \times 7$						
$x \times 7 - 4$						

答え ( )

ひとつだけ ぬりましょう。

  
やさしかった

  
ふつう

  
むずかしかった