

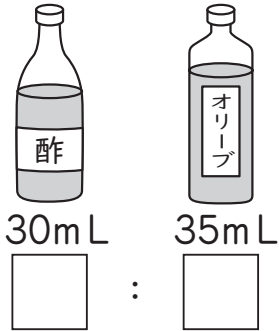


組	番	名前
---	---	----

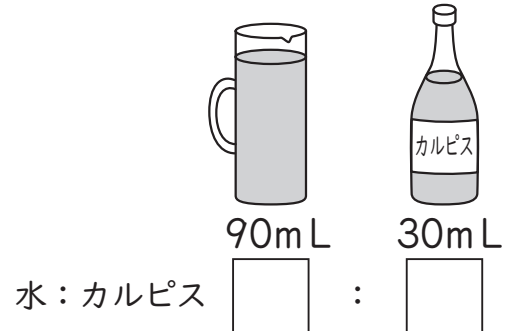
11 比とその利用 (比と比の値)

1 2つのものを混合するときの割合を比で表しましょう。


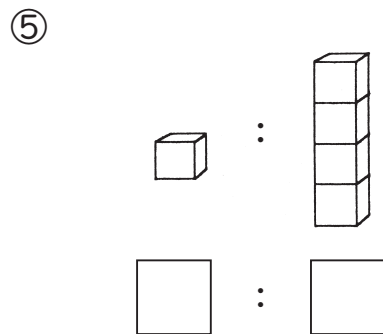
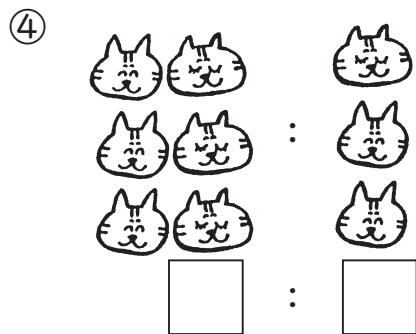
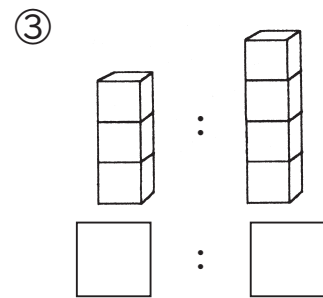

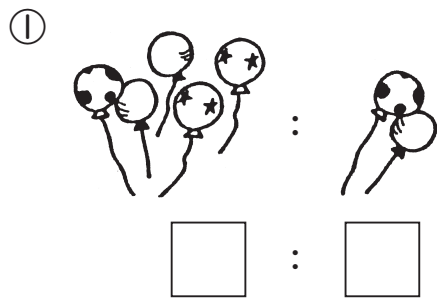
① 酢とオリーブ油で
ドレッシングを作ります。



② カルピスを水でうすめます。



2 次の数の割合を比で表しましょう。



3 みのりさんのクラスの人数は38人で、そのうち15人が男子です。次の比を求めましょう。

① クラス全員と男子の人数の比

② 男子と女子の人数の比

4 比の値を求めましょう。

① 1 : 3 () ② 9 : 4 ()

③ 12 : 18 () ④ 20 : 15 ()

⑤ 4 : 12 () ⑥ 3 : 1 ()

⑦ 28 : 20 () ⑧ 18 : 6 ()

A : BでBを
もとにして(1とみて)、
AがBの何倍にあたるかな?
 $A : B \Rightarrow \frac{A}{B}$ (これが比の値)



ひとつだけ ぬりましょう。

