



組	番	名前
---	---	----

## 倍の計算～小数倍～

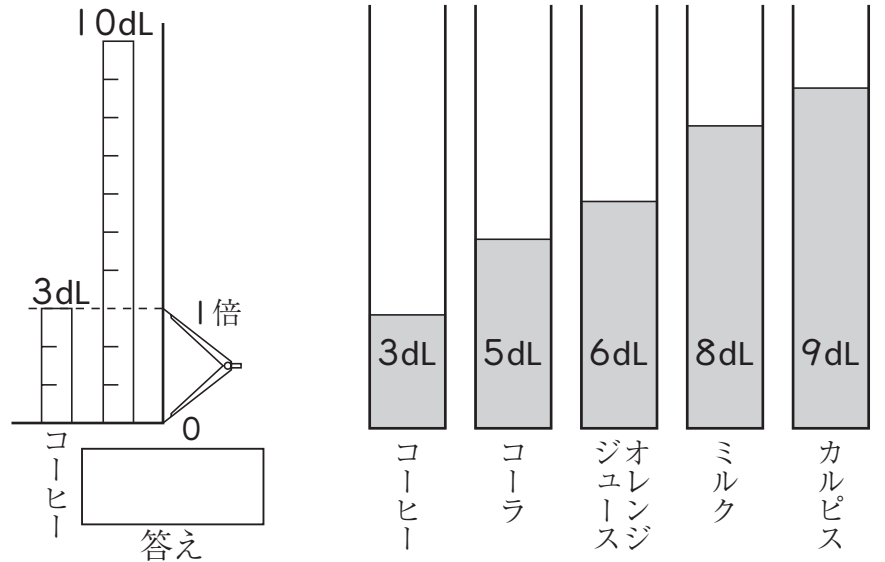
1 ジュースやコーヒー，ミルクなどが、右のようにならんでいます。□にあてはまる数やことばを書きましょう。

① コーヒーの3倍のかさがある飲み物は、どれでしょうか。

●コーヒーの3dLを1倍分としてコンパスにとり、そのコンパスで3倍をとると目もりは

□ dLとなる。

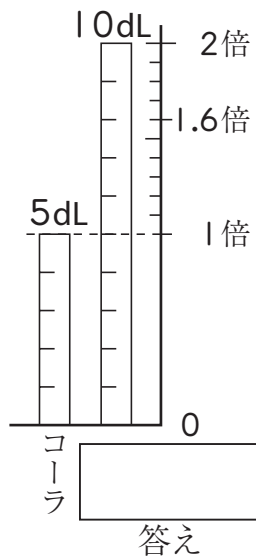
●計算では  $3\text{dL} \times 3 = \square\text{dL}$



② コーラの1.6倍のかさがある飲み物は、どれでしょうか。

●コーラの5dLを1倍分としてコンパスにとり、1倍と2倍をメモする。その間を10等分して、0.1倍の目もりを作り、1.6倍を決めて目もりを読めば、□ dLとなっている。

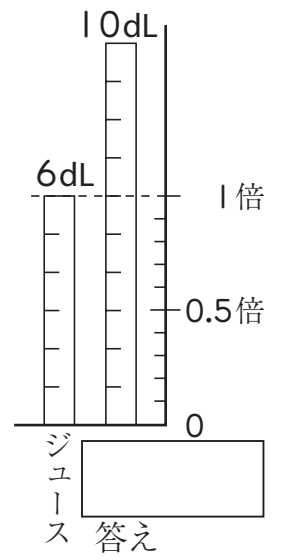
●計算では  $5\text{dL} \times 1.6 = \square\text{dL}$



③ オレンジジュースの0.5倍のかさがある飲み物は、どれでしょうか。

●オレンジジュースの6dLを1倍分として、0.5倍は1倍より小さいから、1倍分を10等分して0.1倍の目もりを作り、その0.5倍の目もりを見ると□ dLとなっている。

●計算では  $6\text{dL} \times 0.5 = \square\text{dL}$



④ コーヒー 3dLのかさの2倍の飲み物は、□ dLになるから、□ である。

⑤ コーラ 5dLのかさの1.8倍の飲み物は、□ dLになるから、□ である。

⑥ コーラ 5dLのかさの0.6倍の飲み物は、□ dLになるから、□ である。

2 □にあてはまる数を求めましょう。

① 8mは4mの□ 倍です。

② 8Lは10Lの□ 倍です。

③ 10mは4mの□ 倍です。

④ 8kgの3倍は□ kgです。

⑤ 2Lの2.5倍は□ Lです。

⑥ 5kgの0.7倍は□ kgです。

ひとつだけ ぬりましょう。

