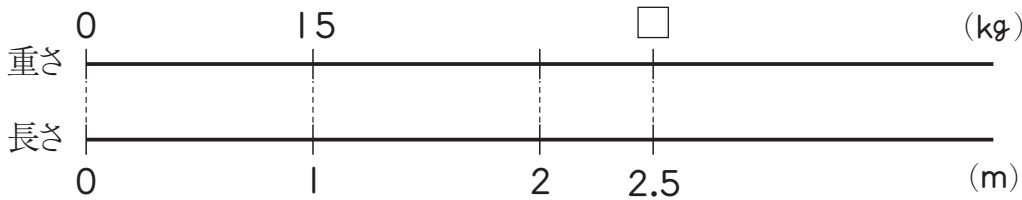




	組	番	名前	
--	---	---	----	--

## 8 小数のわり算 (図にかいて考えよう)

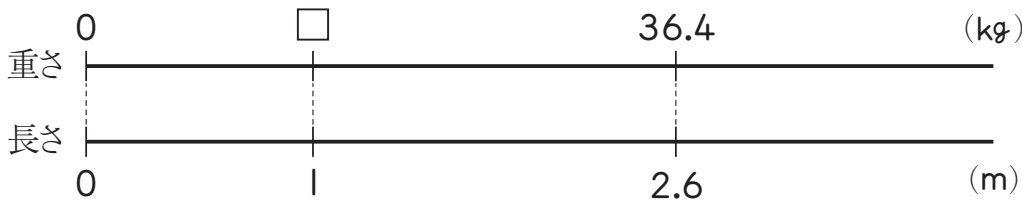
1 1mの重さが15kgのパイプがあります。このパイプ2.5mの重さは何kgでしょうか。



式

答え ( )

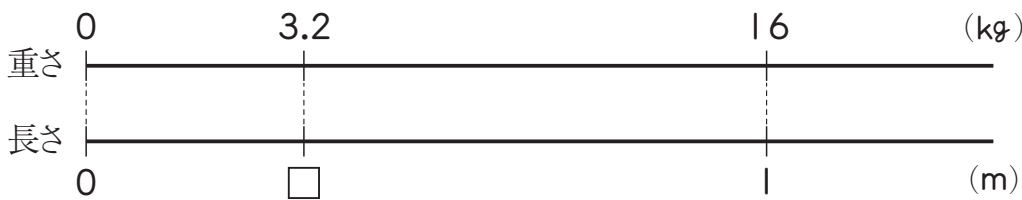
2 2.6mの重さが36.4kgのパイプがあります。このパイプ1mの重さは何kgでしょうか。



式

答え ( )

3 1mの重さが16kgのパイプがあります。このパイプ3.2kgの長さは何mですか。



式

答え ( )

ひとつだけ ぬりましょう。



やさしかった



ふつう



むずかしかった