


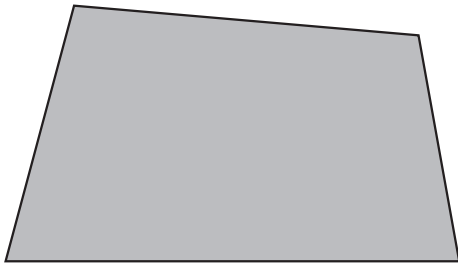


組	番	名前
---	---	----

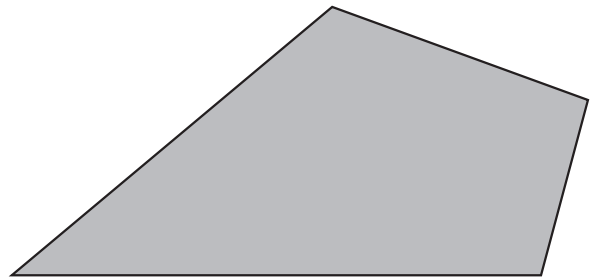
2 図形の合同 (合同な四角形のかき方)

1 必要な長さや角の大きさを測り、次の四角形と合同な四角形をかきましょう。

①



②



2 右の2つの四角形は合同です。次の問いに答えましょう。

① 対応する頂点を書きましょう。

頂点アと () 頂点イと ()

② 対応する辺を書きましょう。

辺アイと () 辺イウと ()

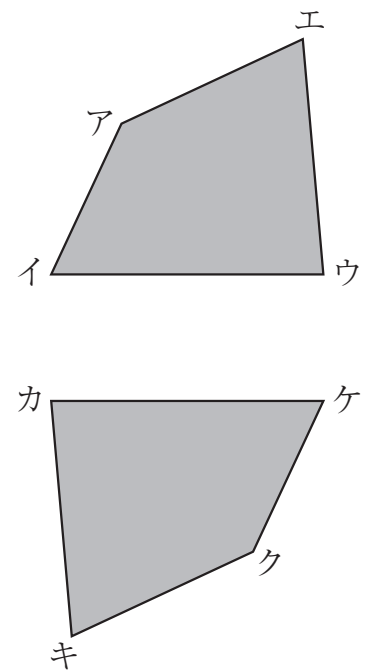
辺ウエと () 辺エアと ()

③ 対応する角を書きましょう。

角カと () 角キと ()

④ 対角線アウに対応する対角線を四角形カキクケにかき入れます。どの頂点とどの頂点を結べばよいですか。

頂点 () と頂点 ()



ひとつだけ ぬりましょう。

