



	組	番	名前	
--	---	---	----	--

## 16 体積 (体積)

1 次の□にあてはまることばを書きましょう。

① かたまりの大きさを、数で表したものを  といいます。

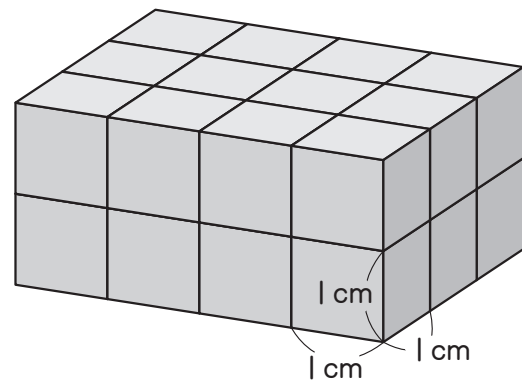
② 1辺が  cmの立方体と同じ体積を、1  と書き、

といいます。

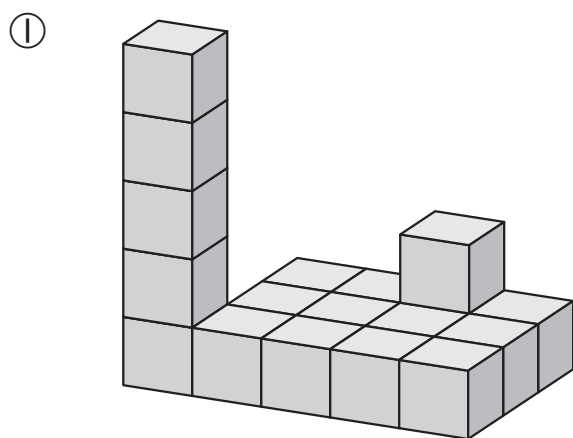
2 1辺が1cmの立方体の積み木で、右のような直方体を作りました。

① この直方体には、1辺が1cmの立方体が全部で何個ありますか。

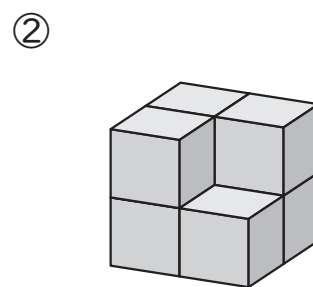
② この直方体の体積は何cm<sup>3</sup>ですか。



3 1辺が1cmの立方体の積み木で作った、次のような形の体積を求めましょう。



(複雑にならべた形)



(立方体のかどがへこんだ形)

ひとつだけ ぬりましょう。

