



組	番	名前
---	---	----

18 直方体と立方体 (展開図)

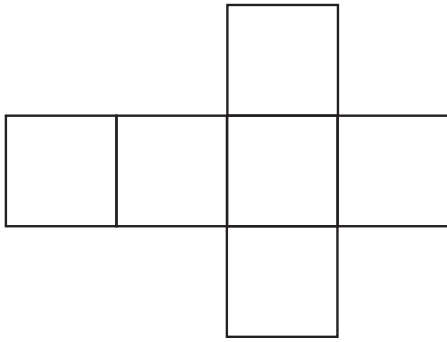
てんかいず

1 組み立てると立方体になる展開図を選びましょう。


ひとつだけ ぬりましょう。

やさしかった	ふつう	むずかしかった


①




②




③



④



⑤



2 次の形の展開図をかきましょう。

① たて4cm, 横2cm, 高さ2cmの直方体

② 1辺が3cmの立方体

1cm

1cm