



	組		番		名前
--	---	--	---	--	----

**17 分数 (分数のたし算とひき算)**

1 次の計算をしましょう。

①  $\frac{2}{5} + \frac{1}{5}$

②  $\frac{3}{7} + \frac{1}{7}$

③  $\frac{2}{8} + \frac{5}{8}$

④  $\frac{2}{3} + \frac{2}{3}$

⑤  $\frac{4}{6} + \frac{3}{6}$

⑥  $\frac{7}{9} + \frac{4}{9}$

⑦  $\frac{3}{4} + \frac{1}{4}$

⑧  $\frac{5}{7} + \frac{2}{7}$

⑨  $2\frac{1}{3} + 1\frac{1}{3}$

⑩  $3\frac{2}{6} + 1\frac{3}{6}$

⑪  $3\frac{3}{8} + 2\frac{4}{8}$

⑫  $2\frac{4}{7} + 4\frac{2}{7}$

⑬  $2 + 3\frac{3}{4}$

⑭  $1\frac{3}{5} + 2\frac{3}{5}$

⑮  $3\frac{5}{7} + \frac{4}{7}$

⑯  $2\frac{4}{5} + 4\frac{3}{5}$

⑰  $\frac{3}{8} + 2\frac{5}{8}$

2 バケツに水が  $3\frac{1}{7}$  L 入っています。このバケツに  $2\frac{5}{7}$  L の水を入れました。

水は全部で何Lになりましたか。

式




答え ( )

3 重さが  $\frac{8}{9}$  kg のかばんがあります。  $2\frac{5}{9}$  kg の荷物を入れたら、全部で何kgになりますか。

式

答え ( )

ひとつだけ ぬりましょう。

 やさしかった	 ふつう	 むずかしかった
---	--	--