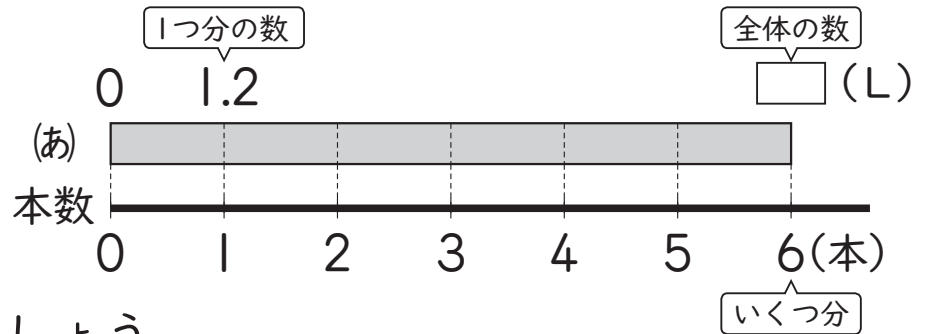




組	番	名前
---	---	----

16 小数のかけ算とわり算 (どんな式になるかな)

1 1本が1.2L入りの
ジュースが6本あります。
ジュースは全部で何L
ありますか。



① (あ)に入ることばを書ききましょう。

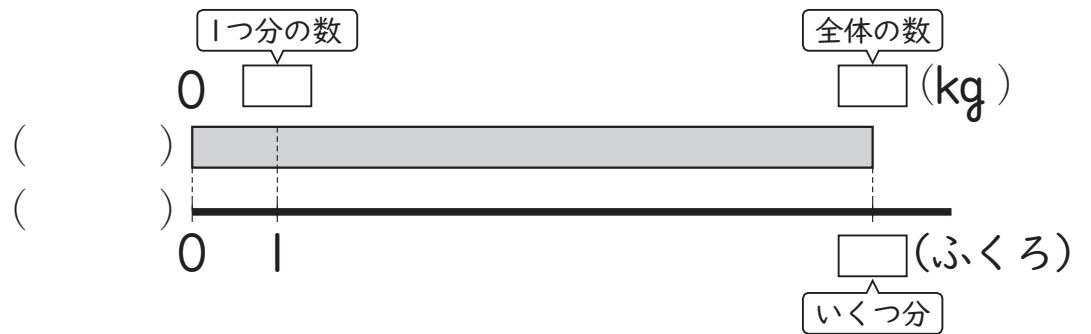
()

② 式を書き, 答えを求めましょう。

式

答え ()

2 お米が15.6kgあります。8つのふくろに等しく分けると,
1ふくろは何kgになりますか。()にあてはまることばを書き,
答えを求めましょう。



式


答え ()


3 9mのひもを, 同じ長さずつ6本に分けると, 1本分は何mになりま
すか。図をかいて計算しましょう。


式

答え ()

ひとつだけ ぬりましょう。


やさしかった


ふつう


むずかしかった