



組	番	名前
---	---	----

15 計算のしかたを考えよう (小数÷整数)

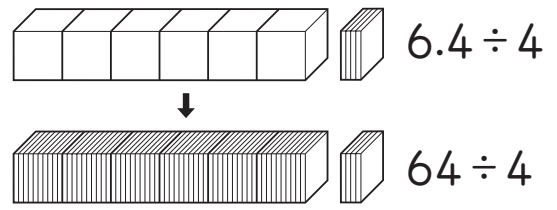
1 6.4Lのジュースを4本のびんに同じように分けると、1本分は何Lになりますか。

3人の考え方に合うように、□にあてはまる数を書きましょう。



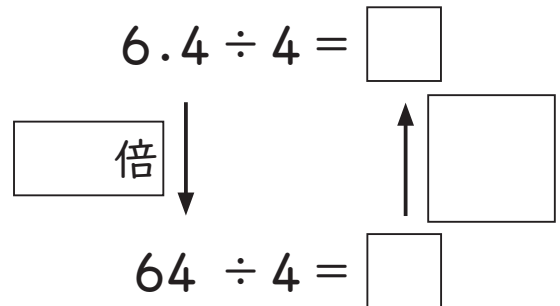
ゆうさんの考え

0.1の何こ分かを考えました。
 6.4は0.1が□こなので、
 式は、□÷4=□。
 0.1が□こということなので、答えは□Lになります。



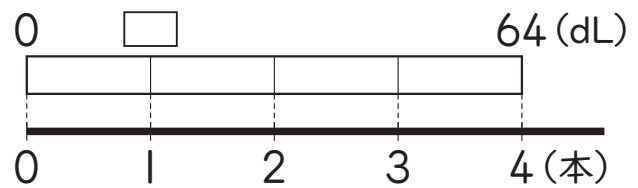
はるとさんの考え

小数のしくみと、
 わり算のきまりを使って
 考えました。
 だから答えは、□Lになります。



あかりさんの考え

LをdLになおすと、
 6.4L = □dLです。
 式は、□ ÷ 4 = □ となります。
 これをLになおして、答えは□Lです。



2 次の計算をしましょう。

- ① 7.8 ÷ 6 ② 8.4 ÷ 3 ③ 12.9 ÷ 3 ④ 33.5 ÷ 5

ひとつだけ ぬりましょう。

