



| | | | | |
|--|---|---|----|--|
| | 組 | 番 | 名前 | |
|--|---|---|----|--|

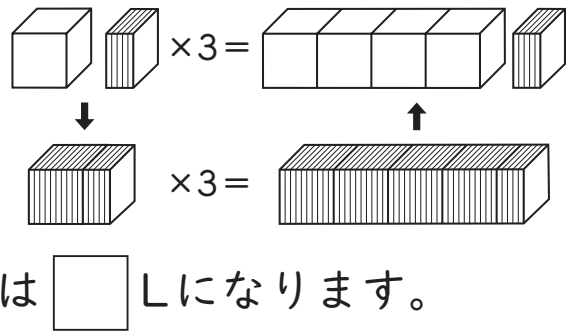
15 計算のしかたを考えよう (小数×整数)

- 1 1.5Lずつ入っているジュースのペットボトルが、3本あります。ジュースは全部で何Lありますか。
3人の考え方に合うように、□にあてはまる数を書きましょう。



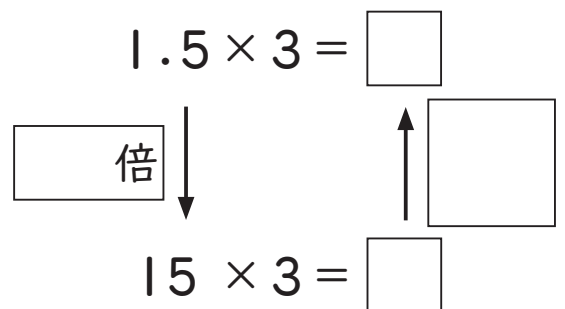
あかりさんの考え

0.1の何こ分かを考えました。
1.5は0.1が□こなので、
式は□×3=□。
0.1が□こということなので、答えは□Lになります。



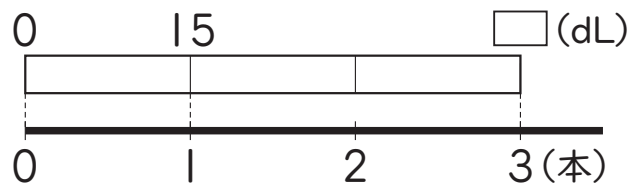
ゆうさんの考え

小数のしくみと、かけ算のきまりを
使って考えました。
だから答えは、□Lになります。



さらさんの考え

LをdLになおすと、
1.5L = □ dLです。
式は、□×3 = □ となります。
これをLになおして、答えは□Lです。



2 次の計算をしましょう。

- ① 1.3×6 ② 2.9×3 ③ 4.3×3 ④ 7.2×4

ひとつだけ ぬりましょう。

