



	組	番	名前	
--	---	---	----	--

## 14 面積 (面積)



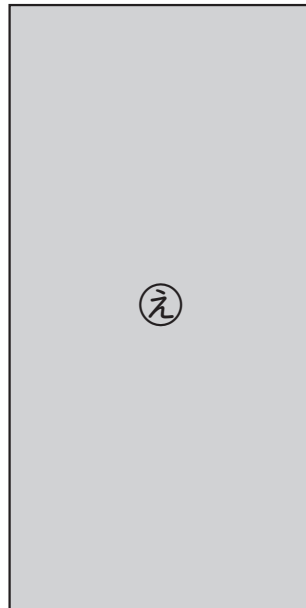

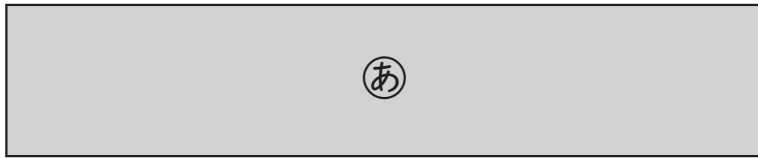
1 下の4つの長方形または正方形を切り取って、次の問題に答えましょう。

- ① まわりの長さは、何cmですか。 ( )
- ② いちばん広いのはどれですか。 ( )
- ③ いちばんせまいのはどれですか。 ( )
- ④ みくさんは、広さ調べをしてわかったことを書きました。  
あてはまることばを ( ) に書きましょう。



みく

まわりの長さは( )だけれども、  
広さが( )ことがわかりました。



(タイルは必要におうじて、切り取って使いましょう。)

ひとつだけ ぬりましょう。

