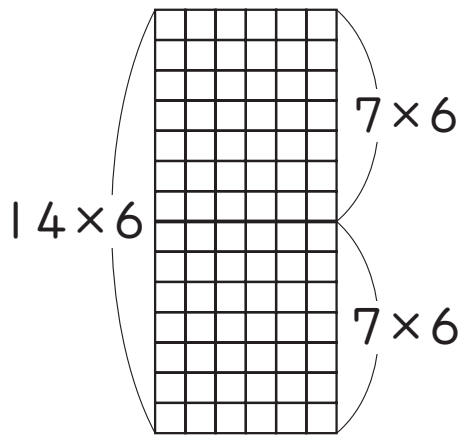




	組	番	名前	
--	---	---	----	--

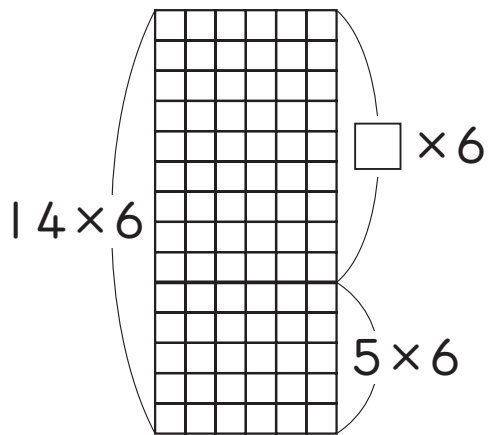
9 (2けた) × (1けた) の計算

1 14×6 の計算のしかたを、かけ算のきまり^{つが}を使って考えてみましょう。



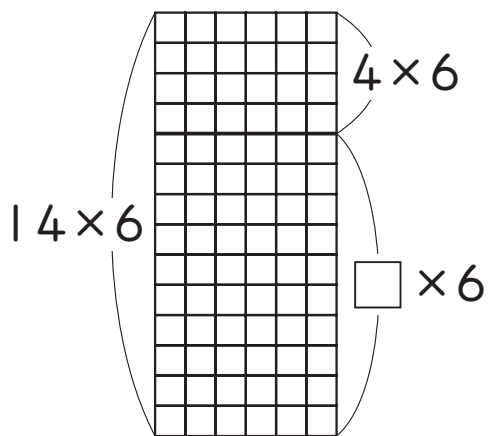
$$\textcircled{1} \quad 14 \times 6 \begin{cases} 7 \times 6 = \square \\ \square \times 6 = 42 \end{cases}$$

合わせて



$$\textcircled{2} \quad 14 \times 6 \begin{cases} \square \times 6 = \square \\ 5 \times 6 = 30 \end{cases}$$

合わせて



$$\textcircled{3} \quad 14 \times 6 \begin{cases} 4 \times 6 = 24 \\ \square \times 6 = \square \end{cases}$$

合わせて

2 15×4 の計算のしかたをくふうしてもとめましょう。

〈考え方〉

ひとつだけ ぬりましょう。

