



組	番	名前
---	---	----

ひとつだけ ぬりましょう。




8 あまりのあるわり算 (いろいろな問題)

1 2つの $15 \div 4$ の問題です。

① 15このクッキーを4人で分けると1人何こずつになりますか。また、あまりは何こになりますか。

$15 \div 4 = \square$ あまり \square

答え




1人3こずつ、のこりが3こ

② 15このクッキーを4こずつ分けると、何人に分けられますか。また、あまりは何こですか。


$15 \div 4 = \square$ あまり \square

答え



3人に分けられ、3このこる

2 38羽のわにわとりがいます。



① 6羽ずつのグループに分けて鳥小屋に入れていきます。何グループできて、何羽のこるでしょうか。

式

答え ()

② のこりのにわとりがないように、6羽と7羽のグループを作るとすると、それぞれ何グループずつになるでしょうか。

6羽のグループ

7羽のグループ

6羽のグループの数	のこり	のこりを7でわる
$6 \times 1 = 6$ 6羽	32羽	$32 \div 7 = ?$ あまり?
$6 \times 2 = 12$ 12羽	26羽	
$6 \times 3 = 18$ 18羽	20羽	