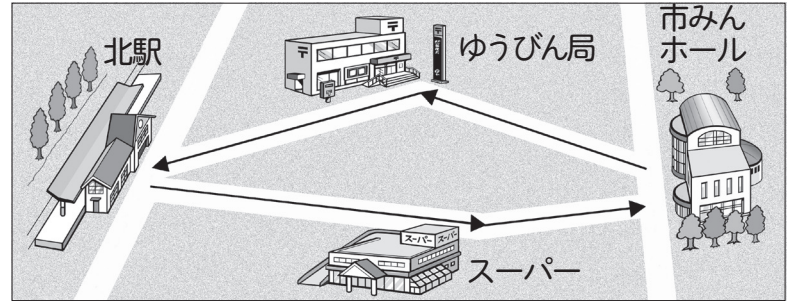




	組	番	名前
--	---	---	----

6 長さ (キロメートル)

1 北駅^{えき}から市みんホールまで、ゆうびん局^{きょく}の前を通って行くと2km680m、スーパーの前を通って行くと1km390mあります。



このとき、次の問題に答えましょう。

① 北駅からスーパーの前を通って市みんホールまで行き、ゆうびん局の前を通って北駅まで帰ってきたときに歩いた道のりを求める式を書きましょう。

② だいきさんは、kmとmに分けて考えました。□にあてはまる数を書きましょう。

kmのところ km + km = km

mのところ m + m = m

1070m = km m

全部で km m

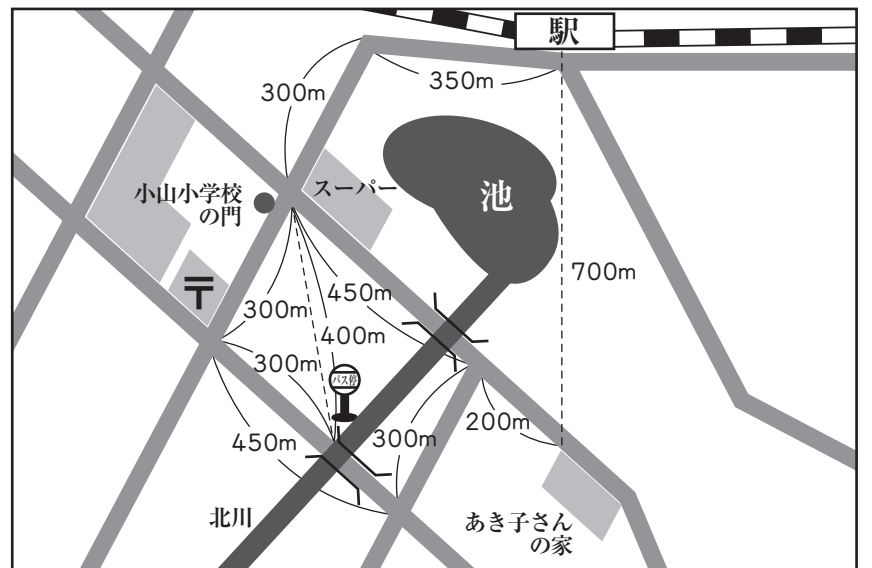
2 右の図を見て、次の問題を考えましょう。

① 駅からあき子さんの家までのきよりは、何mでしょうか。


② 学校の門からゆうびん局の前を曲がってバスまで行く道のりは、何mでしょうか。

③ 駅からあき子さんの家まで行く道のりで、いちばん短かい道のりは、何mでしょうか。また、何km何mでしょうか。


m,
km
m




ひとつだけ ぬりましょう。



やさしかった



ふつう



むずかしかった