



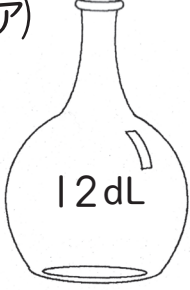

組	番	名前
---	---	----

倍の計算



ひとつだけ ぬりましょう。



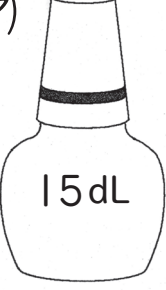

1 アはイの何倍でしょうか。

① (ア)  イ 

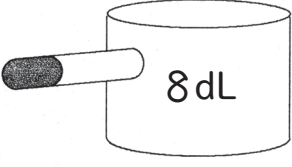

÷ = (倍)

② (ア)  イ 



÷ = (倍)

③ (ア)  イ 



÷ = (倍)

④ (ア)  イ 

÷ = (倍)

⑤ (ア)  イ 

÷ = (倍)

⑥ (ア)  イ 

÷ = (倍)

2 ゆき子さんは、リボンを15m^も持っています。あき子さんは、5m持っています。ゆき子さんは、あき子さんの何倍のリボンを持っているでしょうか。

式

答え ()

3 けんじさんがやった計算問題^{もんだい}は32題で、ゆたかさんの4倍もやっています。ゆたかさんは、何題の計算問題をやったでしょうか。

式

答え ()

4 同じ箱^{はこ}がつんであります。35こつんである箱の高さは、7こつんだ箱の高さの何倍の高さでしょうか。

式

答え ()