




	組	番	名前
--	---	---	----

## 3 わり算 (1や0のわり算)

1 かんに入っているクッキーを、3人で同じ数ずつ分けます。1人分は、何こになるでしょうか。


① 12こ入っていたとき。



式

1人分は  こ


② 6こ入っていたとき。



式

1人分は  こ

③ 3こ入っていたとき。



式

1人分は  こ

④ 1こも入っていないとき。



式

1人分は  こ

2 4dLのジュースを、1dLずつコップに入れると、コップは何こいるでしょうか。

式

答え  こ

3 次のわり算をしましょう。

①  $6 \div 6$

②  $5 \div 5$

③  $0 \div 4$

④  $0 \div 9$

⑤  $2 \div 1$

⑥  $7 \div 1$

⑦  $1 \div 1$

⑧  $0 \div 1$

ひとつだけ ぬりましょう。

