



	組	番	名前
--	---	---	----

3 わり算 (いくつ分かをもとめる計算)

1人分2こずつ
○でかこんでいくと
○が3つ。




1 次のことを式に書きましょう。

答えは、【れい】のようにしてもとめましょう。

【れい】

6このあめを、1人に2こずつ分けると、何人がもらえますか。



式

答え


① 8人の子どもが4人で1つのテーブルにつくと、テーブルはいくつ使いますか。



式

答え

② 24本のクレヨンを、6本ずつ箱に入れると、箱は何箱使いますか。



式

答え


③ 63まいのはっぱを、9まいずつふくろに入れるには、ふくろは何ふくろいりますか。



式

答え

④ 9人います。3人ずつ手をつないでまるを1つ作ると、まるはいくつできますか。



式

答え

ひとつだけ ぬりましょう。



やさしかった



ふつう



むずかしかった