



	組	番	名前
--	---	---	----


ひとつだけ ぬりましょう。



3 わり算 (1つ分の数をもとめる計算)

1 次のことを式に書きましょう。
 答えは、絵を使ってもとめましょう。


- ① 6羽のアヒルを、2つの池に同じ数ずつ入れると、
 1つの池には何羽入りますか。



式

答え


- ② 12ひきの金魚を、3つの水そうに同じ数ずつ入れると、
 1つの水そうには何ひき入りますか。



式

答え


- ③ 16ぴきのトンボを、4つの虫かごに同じ数ずつ入れると、
 1つの虫かごには何ひき入りますか。



式

答え

- ④ 8このハンバーガーを、4人で同じ数ずつ食べます。
 1人分は何こですか。



式

答え

- ⑤ 30この貝を、5つのふくろに同じ数ずつ分けて入れます。
 1ふくろには何こ入りますか。



式

答え