



組	番	名前
---	---	----

16 重さ (重さの表し方)

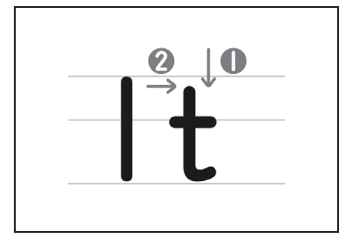
1 はかりの使い方について、正しいものには○，正しくないものには×を () に書きましょう。

() はかりは、^{たい}平らなところにおく。

() はじめに、はりが0を指すようにする。

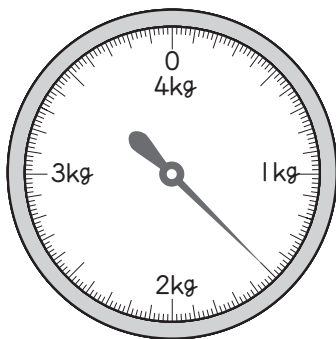
() 目もりは、^{よこ}ななめ横から読む。

2 「g」や「kg」のほかにも、重さのたんいには、「トン」があります。1000kgを1tと書き、1トンといいます。「t」を^{れんしゅう}練習しましょう。



3 図のはかりについて答えましょう。

① 左のはかりでは、何kgまではかれますか。



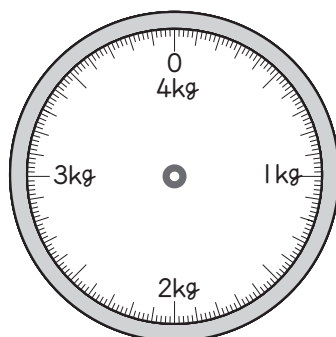
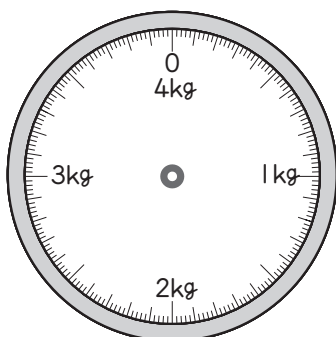
② いちばん小さい目もりは、何gを表していますか。

③ はりが指している目もりを、読みましょう。

4 はかりに、^{つぎ}次の重さを表すはりをかき入れましょう。

① 1kg200g

② 3kg800g



ひとつだけ ぬりましょう。

