

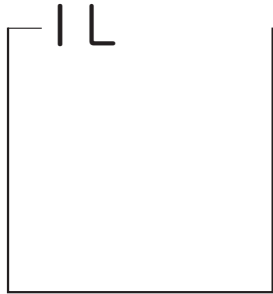


組	番	名前
---	---	----

15 分数 (分数)

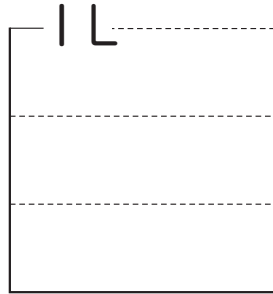
1 それぞれのかさにあたるところに、色をぬりましょう。

①



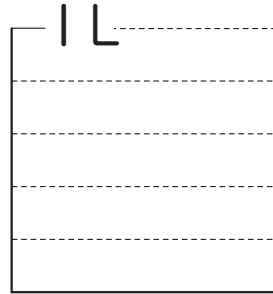
1 L

②



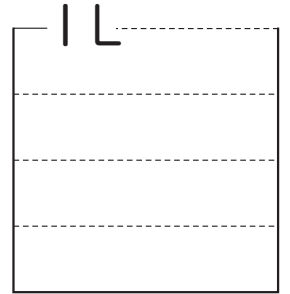
$\frac{1}{3}$ L

③



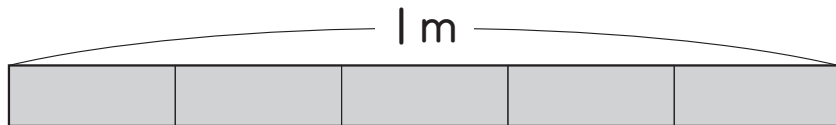
$\frac{2}{5}$ L

④



$\frac{3}{4}$ L

2 1mのテープを5等分しました。下の問題に分数で答えましょう。



① 1つ分の長さは何mでしょうか。

 m

② 3つ分の長さは何mでしょうか。

 m

3 次の□にあてはまることばを、□からえらんで書きましょう。

$\frac{1}{3}$ や $\frac{3}{4}$, $\frac{2}{5}$ のような数を □^ア □ といいます。

$\frac{3}{4}$... □^イ

$\frac{4}{3}$... □^ウ

小数
分数
分母
分子

ひとつだけ ぬりましょう。

