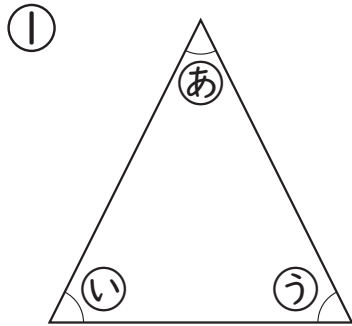




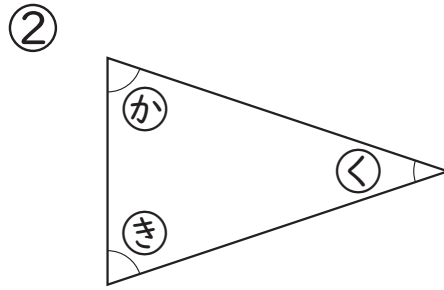
	組	番	名前	
--	---	---	----	--

## 13 三角形と角 (三角形と角)

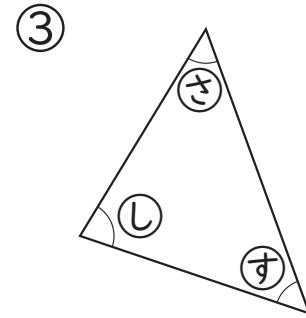
1 下の三角形は、二等辺三角形です。それぞれの二等辺三角形で等しい角の大きさを見つけてみましょう。



(   と   )



(   と   )

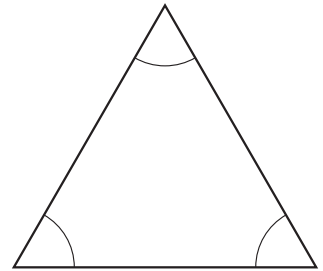


(   と   )

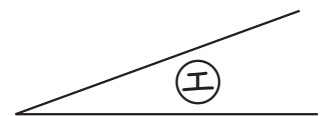
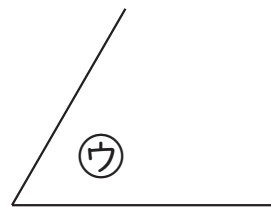
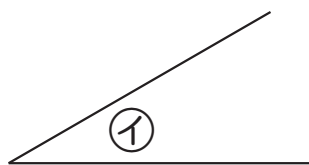
2 右の三角形は、正三角形です。等しい角に色をぬり、  
(   ) にあてはまることばを書きましょう。

正三角形は3つの角の大きさが (   ) 。

そして、3つの辺の長さも (   ) 。

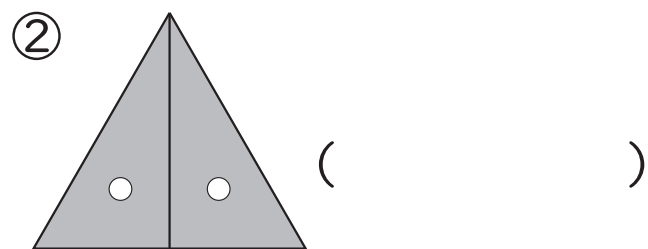
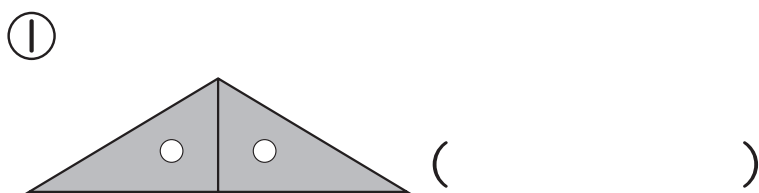


3 次のア～エの角の大きさを、三角じょうぎを使ってくらべましょう。  
また、角の大きいじゅんに書きましょう。



(   ,   ,   ,   )

4 同じ三角じょうぎを2まい使って、次の形を作りました。  
できた形の名前を書きましょう。



ひとつだけ ぬりましょう。

