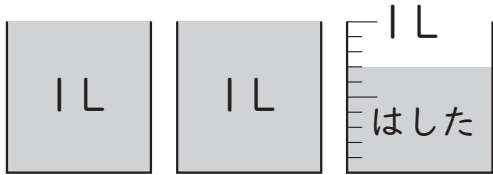




組	番	名前
---	---	----

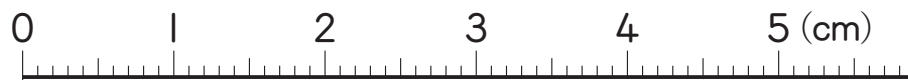
12 小数 (はしたの^{あらわ}表し方)

1 バケツに入っている水のかさをはかりました。□にあてはまる数を書きましょう。



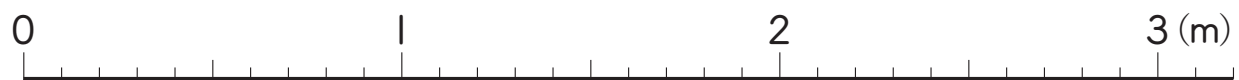
- ① 1Lますを10^{とうぶん}等分したうちの1つ分は、□Lです。
- ② 水のかさは、□Lです。

2 1cmをもとにして、次の長さを小数で表しましょう。



- ① 3mm ① □ cm
- ② 1cm9mm ② □ cm
- ③ 4cm5mm ③ □ cm

3 1mをもとにして、次の長さを小数で表しましょう。



- ① 10cm ① □ m
- ② 70cm ② □ m
- ③ 1m60cm ③ □ m
- ④ 2m30cm ④ □ m

ひとつだけ ぬりましょう。

