

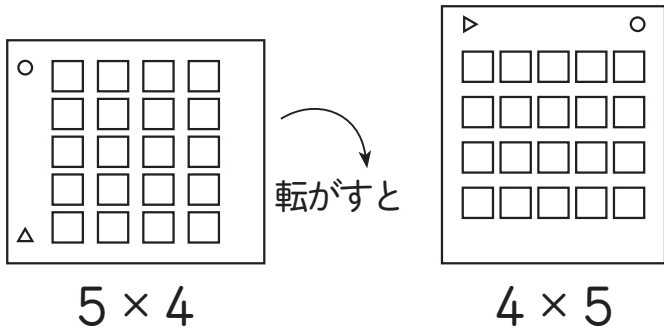


	組	番	名前	
--	---	---	----	--

1 かけ算 (かけ算のきまり①)

1 次の□にあてはまる数を書きましょう。

(1) かけ算の絵をころ転がす。



$$\boxed{5} \times \boxed{4} = \boxed{4} \times \boxed{5}$$

数を入れかえても
答えは同じになる。

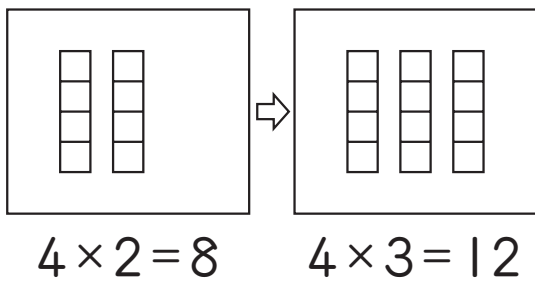
$6 \times 3 = 3 \times \square$

$7 \times 4 = \square \times 7$

$8 \times \square = 2 \times 8$

$\square \times 6 = 6 \times 5$

(2) 1列れつ分ふやす・へらす。



$$4 \times \boxed{2} + \boxed{4} = 4 \times \boxed{3}$$

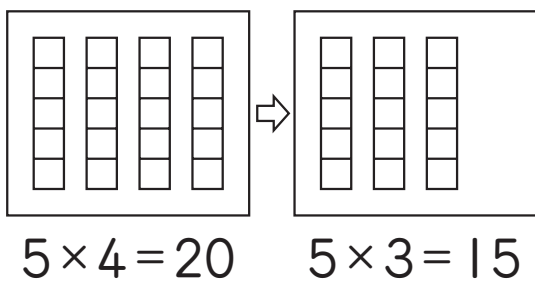
かける数を1つふやすと
かけられる数だけふえる。

$7 \times 2 + 7 = 7 \times \square$

$8 \times 4 + 8 = 8 \times \square$

$5 \times 3 + \square = 5 \times 4$

$4 \times \square + 4 = 4 \times 7$



$$5 \times \boxed{4} - \boxed{5} = 5 \times \boxed{3}$$

かける数を1つへらすと
かけられる数だけへる。

$2 \times 4 - 2 = 2 \times \square$

$7 \times 3 - 7 = 7 \times \square$

$8 \times 8 - \square = 8 \times 7$

$3 \times \square - 3 = 3 \times 6$

ひとつだけ ぬりましょう。

