



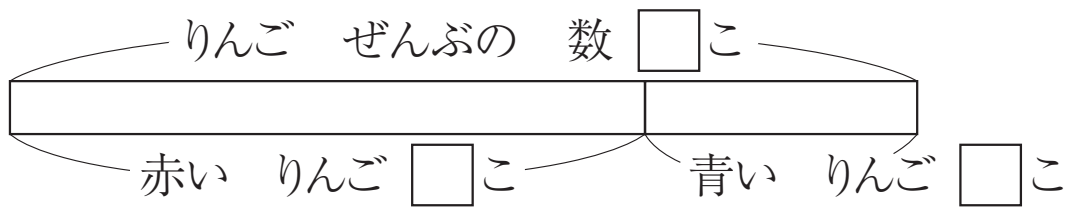
	組	番	名前	
--	---	---	----	--

7 たし算と ひき算 (1)

1 赤い りんごが 42こ, 青い りんごが 18こ あります。

☒の □に 数が わかっているときは その数を, これからもとめる 数には ?を ^か書き, ^{こた}答えを もとめましょう。

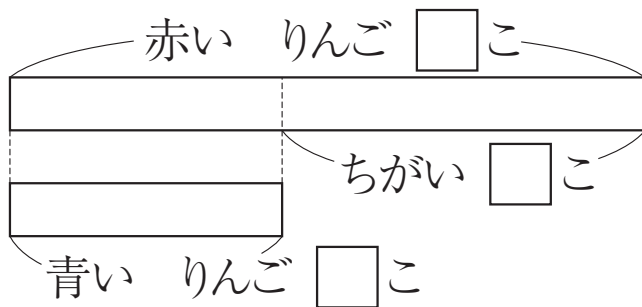
① りんごは ぜんぶで ^{なん}何こ ありますか。



しき

答え ()

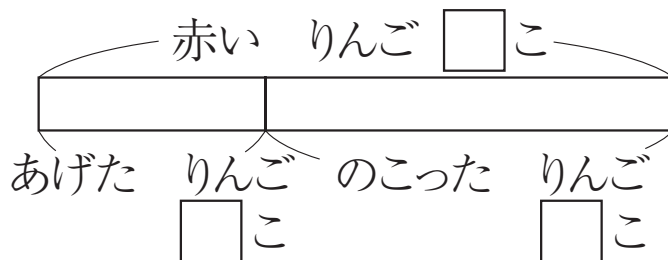
② どちらが ^{おお}何こ 多いですか。



しき

答え ()

③ 赤い りんごを 15こ あげました。赤い りんごは 何こ のこって いますか。



しき

答え ()

ひとつだけ ぬりましょう。

やさしかった	ふつう	むずかしかった