




	組	番	名前	
--	---	---	----	--

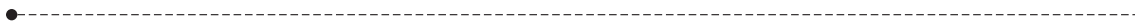
## 6 <sup>なが</sup>長さ(1) (まっすぐな <sup>せん</sup>線の <sup>ひ</sup>引き方)

1 つぎの 長さの 線を ..... から 引きましょう。

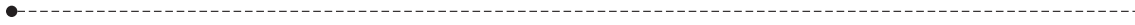
① 4cm



② 12cm



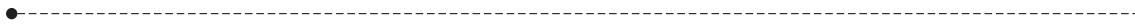
③ 7cm5mm



④ 11cm3mm



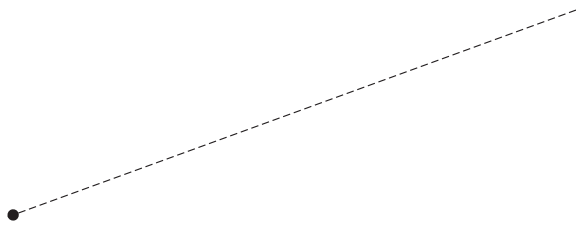
⑤ 9mm



2 つぎの 長さの 線を ..... に そって 引きましょう。

① 5cm7mm


② 10cm6mm



③ 6cm2mm



④ 8cm2mm



ひとつだけ ぬりましょう。

やさしかった	ふつう	むずかしかった