



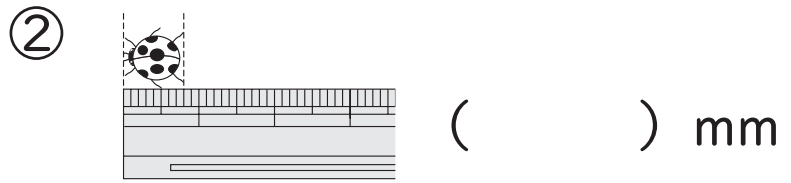
組	番	名前
---	---	----

ひとつだけ ぬりましょう。



## 6 <sup>なが</sup>長さ(1) (<sup>かた</sup>長さの あらわし方)

1 長さは どれだけでしょうか。



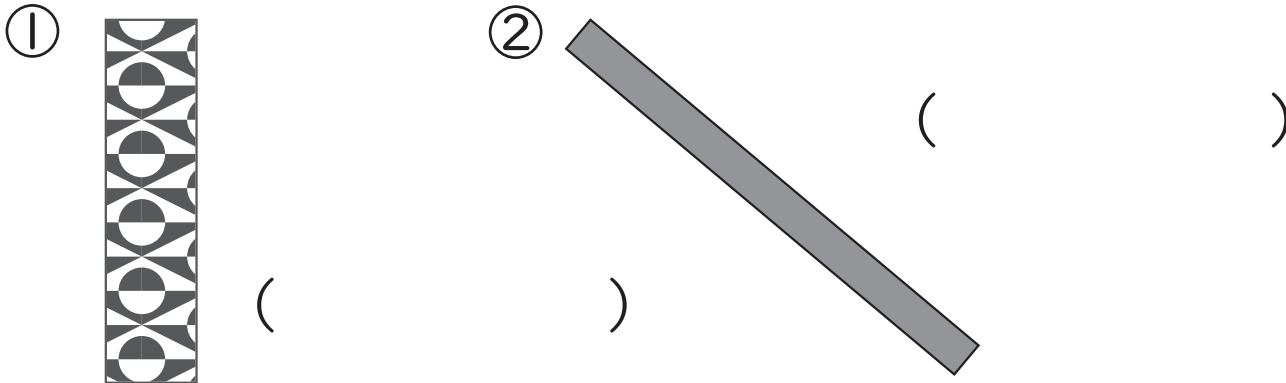
2 れんしゅうを しましょう。

mm mm

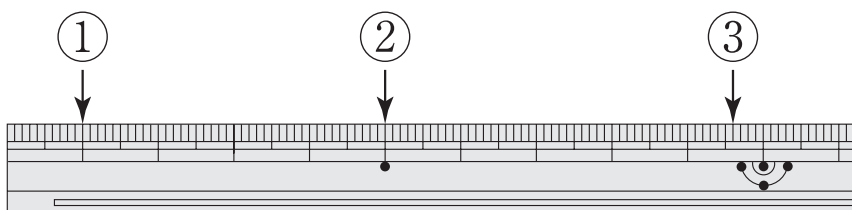
3 テープや <sup>せん</sup>線の 長さを はかりましょう。



4 テープの 長さを はかりましょう。



5 左の はしから、①～③までの 長さは、それぞれ 何cm 何mm でしょうか。



①  cm

②  cm

③  cm  mm