



	組	番	名前
--	---	---	----

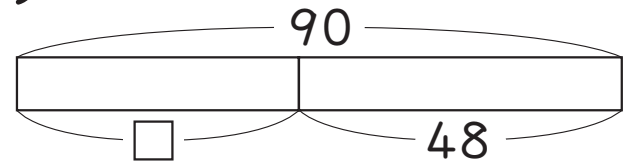
ひとつだけ ぬりましょう。



## 5 ひき算の ひっ算 (たし算と ひき算の かんけい)

1 答えを もとめましょう。また、答えの たしかめも しましょう。

- ① 2年生は ぜんいんで 90人です。  
そのうち 女の子は 48人です。  
男の子は 何人でしょう。  
しき



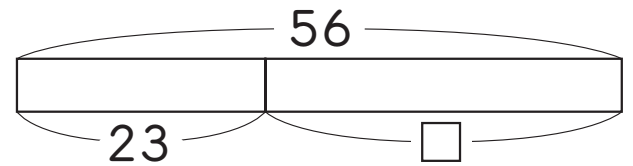
たしかめ

$$\boxed{\phantom{00}} + \boxed{\phantom{00}} = \boxed{\phantom{00}}$$

答え
ひく数
ひかれる数

答え ( )

- ② 赤い 花と 白い 花が  
あわせて 56本 さいています。  
赤い 花は 23本です。  
白い 花は 何本でしょう。  
しき



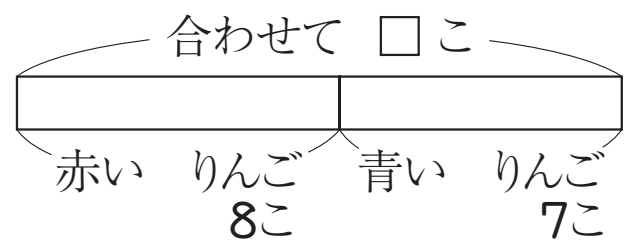
たしかめ

$$\boxed{\phantom{00}} + \boxed{\phantom{00}} = \boxed{\phantom{00}}$$

答え ( )

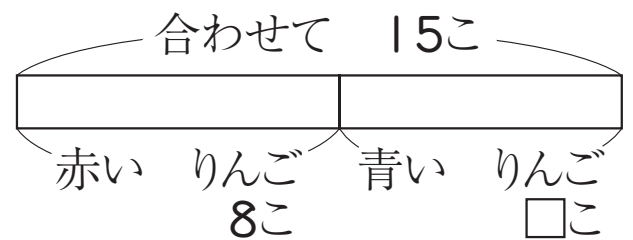
2 答えを もとめましょう。

- ① 赤い りんごが 8こ、  
青い りんごが 7こ あります。  
りんごは 合わせて 何こ ありますか。  
しき



答え ( )

- ② 赤い りんごと 青い りんごが、  
合わせて 15こ あります。  
赤い りんごは 8こです。  
青い りんごは 何こ ありますか。  
しき



答え ( )

- ③ ①と ②を くらべて 気づいたところを かきましょう。