



	組	番	名前	
--	---	---	----	--

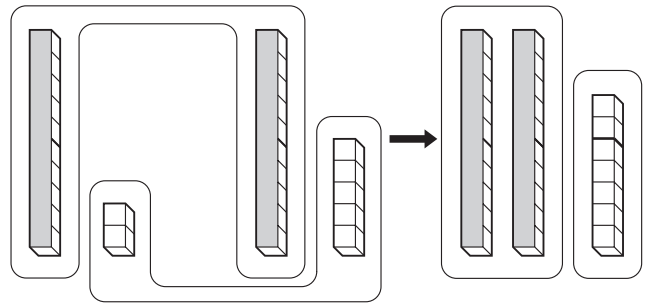
3 2けたの たし算と ひき算 (たし算)

1 きノウ クリを 12こ ひろいました。今日は 15こ ひろいました。くりは 合わせて 何こ ひろいましたか。

① くりの 数を もとめる しきを 書きましょう。

② 教科書 33 ページの ゆうさんの 考えで 計算しようとしています。□に あてはまる 数を 書きましょう。

10の たばが □ こと、
ばらが □ ことで、□。



③ くりは 合わせて 何こ ひろいましたか。 □ こと。

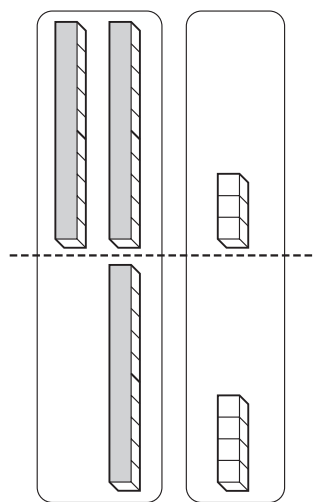
2 あめを 23こ もっていました。あとから 14こ もらいました。ぜんぶで あめは 何こに なった でしょうか。

① あめの 数を もとめる しきを 書きましょう。

② 教科書 33 ページの さらさんの 考えで 計算しようとしています。□に あてはまる 数を 書きましょう。


たてに ならべると、数えやすく なります。


10の たばが □ こと、ばらが □ ことで □。




③ あめの 数は ぜんぶで 何こに なったでしょうか。 □ こと。

ひとつだけ ぬりましょう。


 やさしかった


 ふつう


 むずかしかった