






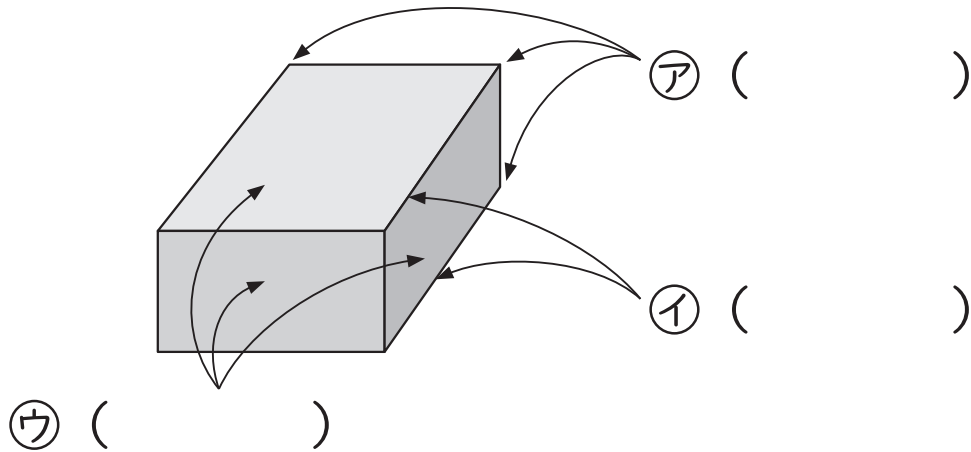
組	番	名前
---	---	----

21 はこの形 (はこの形)

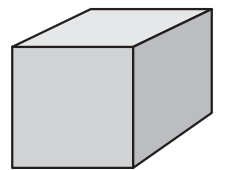
ひとつだけ ぬりましょう。

 やさしかった	 ふつう	 むずかしかった
---	--	--

1 やじるしが さしている ところの
名前を () に 書きましょう。

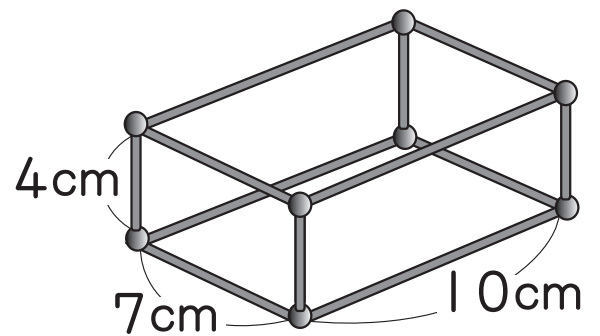


2 右の さいころの 形について、答えましょう。



- ① 面は 何こ あるでしょうか。 () こ
- ② へんは 何本 あるでしょうか。 () 本
- ③ ちょう点は何こ あるでしょうか。() こ
- ④ 面の 形は、どんな 四角形でしょうか。()

3 ひごと ねん土玉で 図の ような
はこの 形を 作りました。



- ① ねん土玉は 何こでしょうか。 () こ
- ② 7cm の ひごは 何本でしょうか。 () 本
- ③ 4cm の ひごは 何本でしょうか。 () 本
- ④ 10cm の ひごは 何本でしょうか。 () 本