




	組	番	名前	
--	---	---	----	--


2 時こくと 時間 (1)


1 つぎの □ に あてはまる 数や ことばを 書きましょう。


- ① 1日の はじまりは, □ 0時です。
- ② 時計の みじかいはりは, 1日に □ 回 まわります。
- ③ 1日 = □ 時間
- ④ 1時間 = □ 分
- ⑤ 午前0時は 午後 □ 時とも いいます。
- ⑥ 午後0時は 午前 □ 時とも いい, □ とも いいます。
- ⑦ 長いはりが 1目もり すすむ 時間は □ です。
- ⑧ みじかいはりが 1まわりする 時間は □ です。

2 時間や 時こくの つかい方が 正しくないのは どれですか。

①  きょう 今日 は 3時間, あそんだよ。




②  しょうご 正午は, 1日の まんなかの 時こくだね。

③  えきで でん車の 時こくひょうを もらったよ。

④  べんきょうして いた 時こくは, 2時間だよ。

こた 答え ()

ひとつだけ ぬりましょう。

 やさしかった	 ふつう	 むずかしかった
---	--	--