

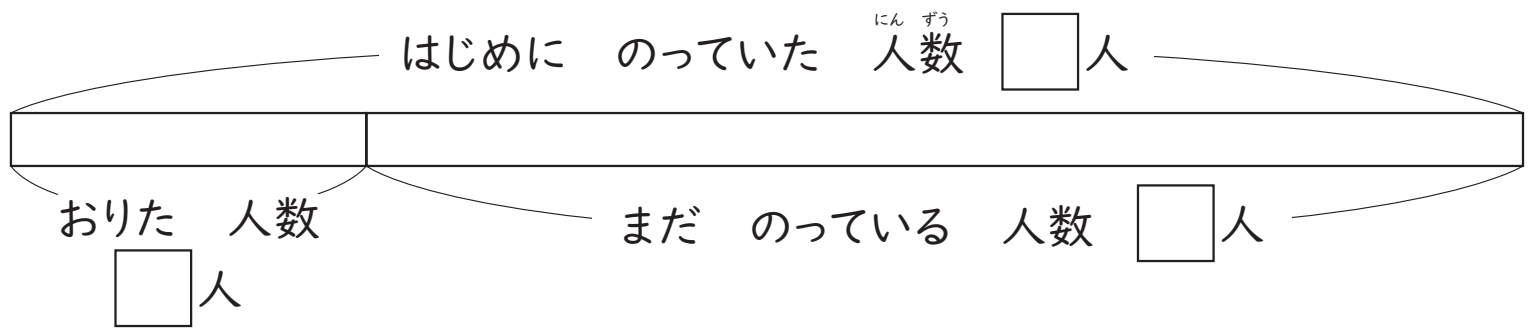


|   |   |    |
|---|---|----|
| 組 | 番 | 名前 |
|---|---|----|

## 19 たし算とひき算(2)

1 図の □ に 数が わかっているときは その数を、これから もとめる 数には ? を 書き、答えを もとめましょう。

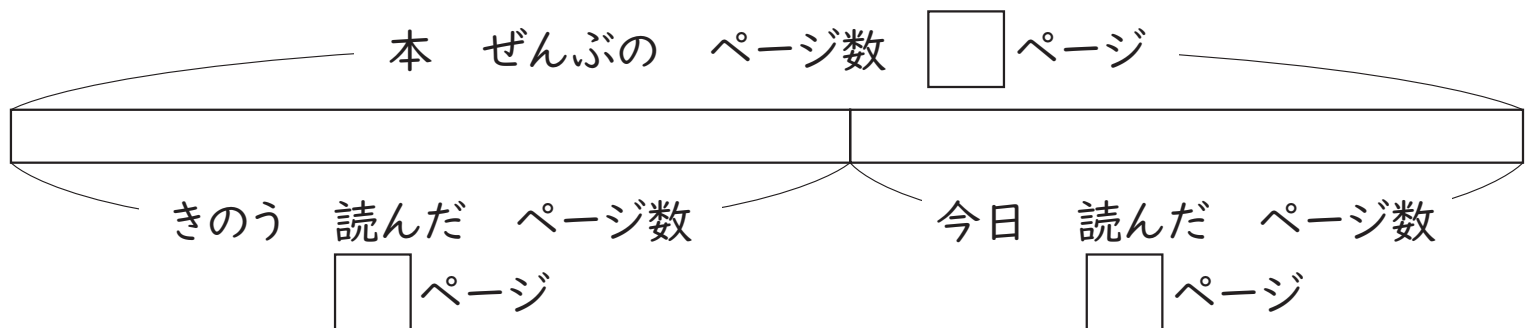
- ① バスに おきやくが 38 人 のっていました。つぎの バスでいて 何人か おりました。それで、おきやくは 29 人 に なりました。おりた おきやくは 何人ですか。



しき

答え (                      )


- ② ぜんぶで 108 ページの 本を 読みます。きのう 何ページか 読んで 今日 48 ページ のこっていたので ぜんぶ 読みました。きのう 読んだのは 何ページでしたか。





しき

答え (                      )

ひとつだけ ぬりましょう。

  
 やさしかった

  
 ふつう

  
 むずかしかった