

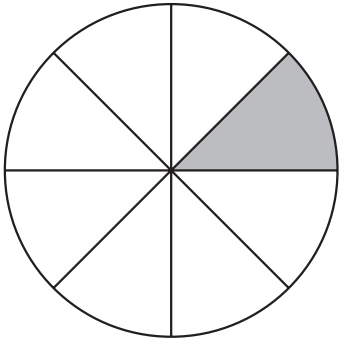


組	番	名前
---	---	----

## 15 分数 (半分の半分)

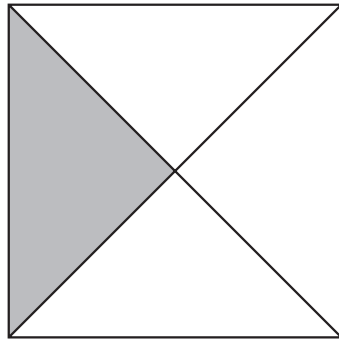
1 色の ついた ところは, ぜんたいの 何分の一でしょうか。

①



( 分の一) 分数 ( )

②



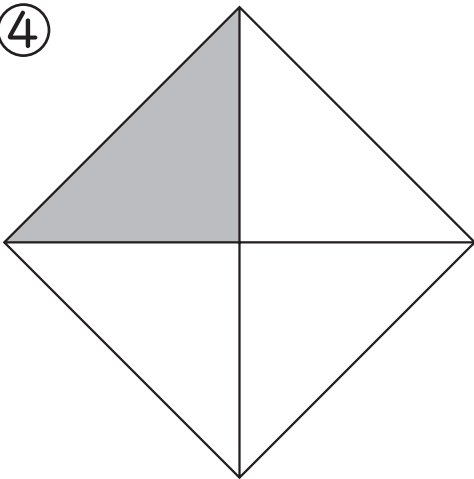
( 分の一) 分数 ( )

③



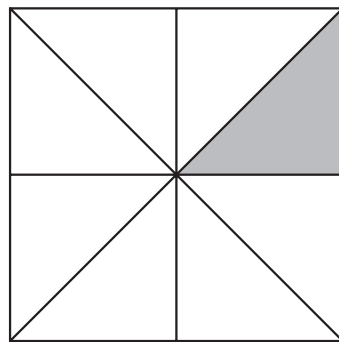
( 分の一) 分数 ( )

④



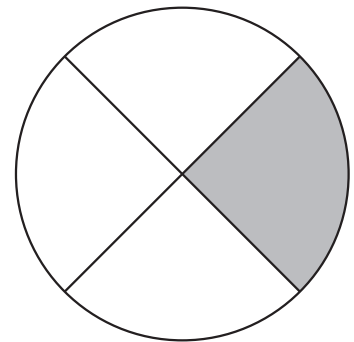
( 分の一) 分数 ( )

⑤





( 分の一) 分数 ( )

⑥



( 分の一) 分数 ( )

2 どれも 同じ形に なるように, おり紙を 4つに 分けましょう。



さんかくけい  
三角形や  
四角形いがいの  
形も 考えてみよう!



ひとつだけ ぬりましょう。



やさしかった



ふつう



むずかしかった