

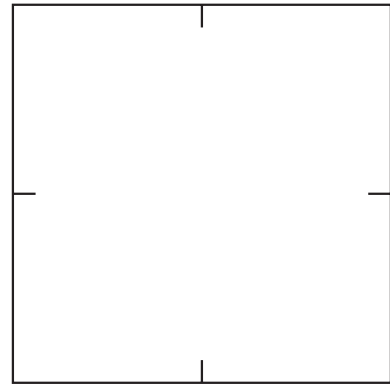
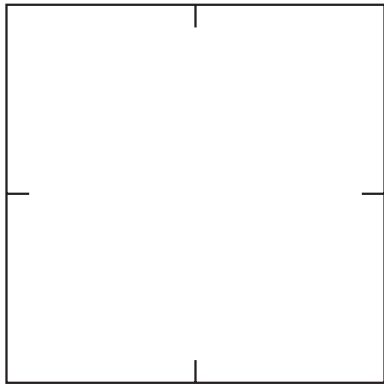
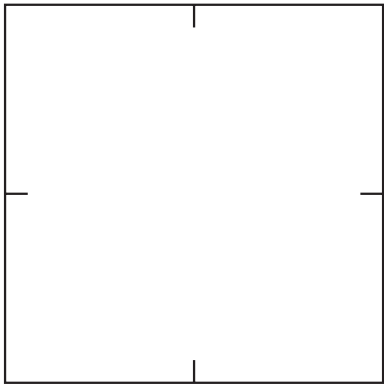


組	番	名前
---	---	----

15 分数 (半分の半分)

1 おり紙を 同じ 大きさに 4つに おります。

① どの ような おり方があるでしょうか。おった あとの 直線を 引きましょう。

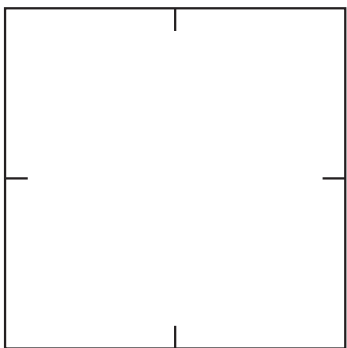


② つぎの □ に あてはまる 数や ことばを 書きましょう。
同じ 大きさに 4つに 分けた 1つ分の 大きさを、
もとの 大きさの 「□分の□」と いい、□ と
書きます。

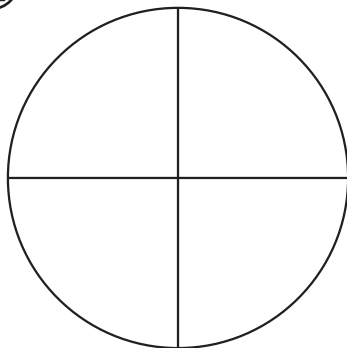
$\frac{1}{2}$, $\frac{1}{4}$ のような 数を □ と いいます。

2 もとの 大きさの $\frac{1}{4}$ だけ、色を ぬりましょう。

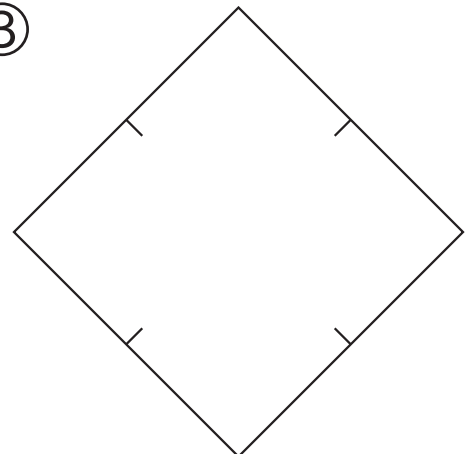
①



②



③



④



ひとつだけ ぬりましょう。

