

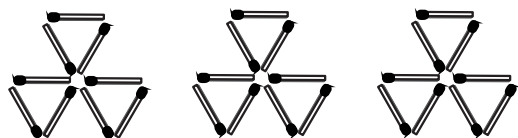


組	番	名前
---	---	----

13 かけ算 (2) (8のだん・9のだん)

1 絵を見て、しきを ^か書き、^{こた}答えも もとめましょう。

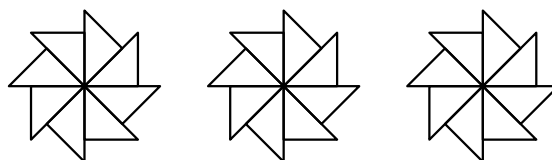
① マッチぼうは、ぜんぶで ^{なん}何本 ですか。



$$\square \times \bigcirc = (\quad)$$

答え ()

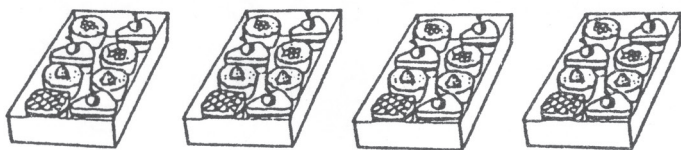
② △の ^{いろ}色いたは、ぜんぶで ^{なん}何まい ですか。



$$\square \times \bigcirc = (\quad)$$

答え ()

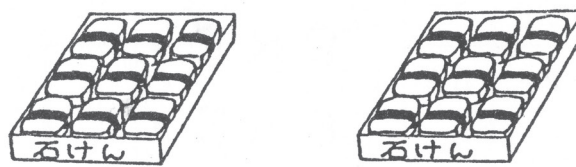
③ ケーキは、ぜんぶで ^{なん}何こ ありますか。



$$\square \times \bigcirc = (\quad)$$

答え ()

④ 石けんは、ぜんぶで ^{なん}何こ ありますか。



$$\square \times \bigcirc = (\quad)$$

答え ()

2 つぎの かけ算を しましょう。

- | | | | |
|-------|-------|-------|-------|
| ① 8×2 | ② 9×4 | ③ 8×6 | ④ 9×8 |
| ⑤ 9×9 | ⑥ 8×1 | ⑦ 8×5 | ⑧ 9×7 |
| ⑨ 8×9 | ⑩ 8×8 | ⑪ 9×1 | ⑫ 9×6 |

3 1はこ 8本入りの えんぴつが、7はこ ありますか。
ぜんぶで ^{なん}何本 ありますか。

しき

答え ()

4 ^{たか}高さ 9cmの はこを 5こ ^{かさ}かさねると、ぜんぶの ^{たか}高さは ^{なん}何cmに なりますか。

しき

答え ()

ひとつだけ ぬりましょう。

やさしかった	ふつう	むずかしかった