




	組	番	名前	
--	---	---	----	--

12 かけ算 (1) (3のだん・4のだん)


1 絵を見て、しきを ^か書き、^{こた}答えも ^{なん}もとめましょう。

① みかんは ^{ぜんぶ}で ^{なん}どこですか。



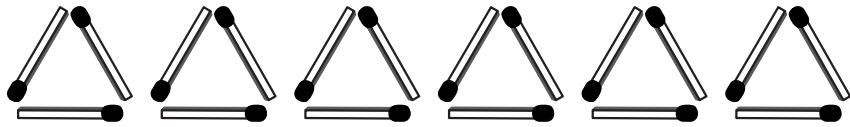
× = () 答え ()

② 子どもは ^{みんな}で ^{なん}何人ですか。



× = ()
答え ()

③ マッチぼうは ^{ぜんぶ}で ^{なん}何本ですか。



× = () 答え ()

2 つぎの かけ算を しましょう。

- | | | | |
|-------|-------|-------|-------|
| ① 4×2 | ② 3×6 | ③ 3×8 | ④ 4×3 |
| ⑤ 4×1 | ⑥ 3×1 | ⑦ 3×9 | ⑧ 3×2 |
| ⑨ 4×6 | ⑩ 3×3 | ⑪ 4×8 | ⑫ 4×5 |
| ⑬ 4×9 | | | |

3 3こ入りの キャンディーが 5ふくろ あります。
キャンディーは、^{ぜんぶ}で ^{なん}どこに ^{なん}なりますか。

しき

答え ()

4 4人 すわれる ベンチが、7台 ^{だい} あります。
みんな、^{なん}何人 ^{なん}すわれますか。

しき

答え ()

ひとつだけ ぬりましょう。

