



	組	番	名前	
--	---	---	----	--


12 かけ算 (1) (かけ算の しき)

1 りんごが 16こ あります。同じ 数ずつ ふくろに
入れましょう。どんな 入れ方が あるでしょうか。
また、かけ算の しきで あらわしましょう。



①  2こずつだと ふくろ できる。

かけ算の しき × = 16

②  4こずつだと ふくろ できる。

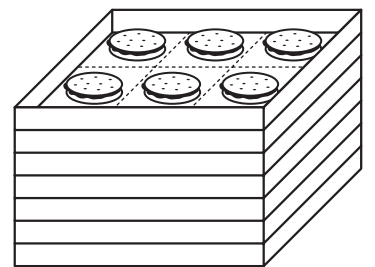
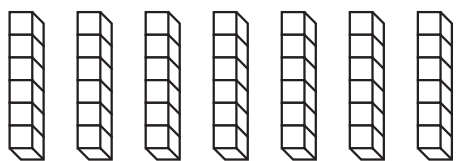
かけ算の しき × = 16

③  8こずつだと ふくろ できる。

かけ算の しき × = 16

2 おかしが、はこに 同じ 数ずつ 入っています。

① ぜんぶの 数をもとめる しきを
書きましょう。



× =

(1つ分の 数) (いくつ分) (ぜんぶの 数)

② ぜんぶの 数は 6この 何ばいですか。

ばい

ひとつだけ ぬりましょう。

