



	組	番	名前	
--	---	---	----	--

12 かけ算 (1) (かけ算のしき)


1 絵を見て、かけ算のしきで書きましょう。

① 何人ですか。




$$\square \times \bigcirc = (\quad)$$

② はっぱは何まいですか。



$$\square \times \bigcirc = (\quad)$$

③ ひよこは何わですか。



$$\square \times \bigcirc = (\quad)$$

④ でん車は何りょうですか。




$$\square \times \bigcirc = (\quad)$$

⑤ おにぎりは何こですか。



$$\square \times \bigcirc = (\quad)$$

⑥ 色紙は何まいですか。



$$\square \times \bigcirc = (\quad)$$

□は ずつの数 (1つ分の数),
○は いくつ分。



ひとつだけ ぬりましょう。



やさしかった



ふつう



むずかしかった