




組	番	名前
---	---	----

## 12 かけ算 (1) (かけ算)

1 □や ○にあてはまる <sup>かず</sup>数を <sup>か</sup>書きましょう。

①



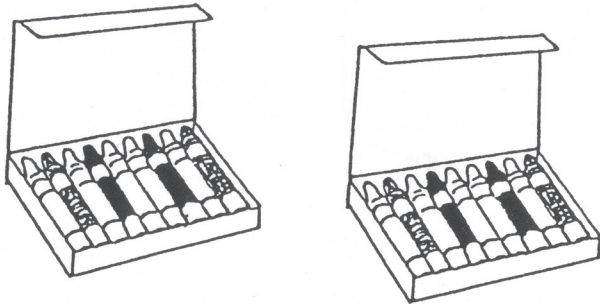
1ふくろ □本ずつ ○ふくろ<sup>ぶん</sup>分。

②




1台<sup>だい</sup> □人ずつ ○台分。

③




1はこ □本ずつ ○はこ分。

④



1せき □人ずつ ○せき分。

⑤



1本に こいのぼりが □びきずつ ○本分。

⑥



1さら □こずつ ○さら分。

□は ずつの数(1つ分の数),  
○は いくつ分。



ひとつだけ ぬりましょう。



やさしかった



ふつう



むずかしかった