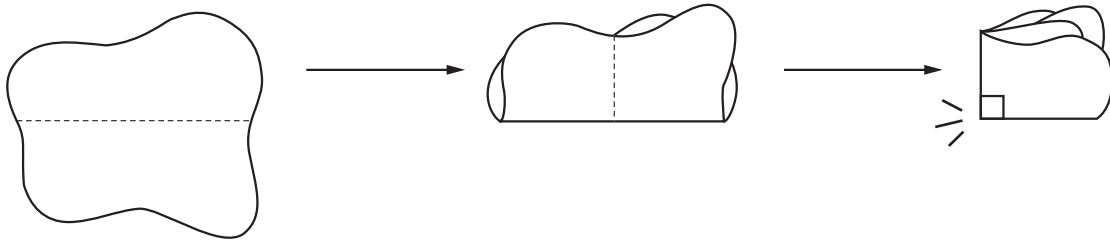





組	番	名前
---	---	----

## 11 さんかくけい 三角形と しかくけい 四角形 (ちよっかく 直角)


1 ( ) の 中 に こ と ば を 書 き ま し ょ う 。  
 下 の 図 の よ う に、紙 を 4 つ に お っ て で き た か ど の 形 を、( ) と い い ま す。



2 三角じょうぎを つか っ て 直 角 を さ が し て、れい の よう に し る し を つ け ま し ょ う。



3 三角じょうぎを つか っ て 直 角 を さ が し て、① の よう に し る し を つ け ま し ょ う。



ひとつだけ ぬりましょう。

やさしかった	ふつう	むずかしかった