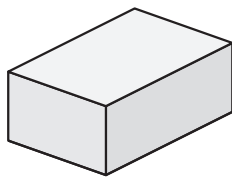
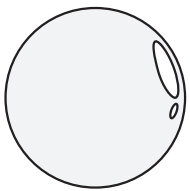
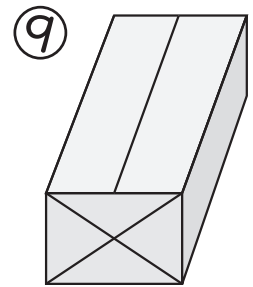
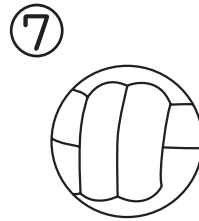
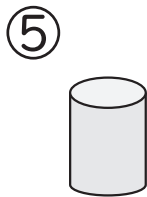


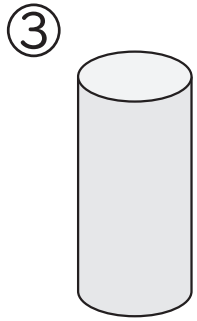
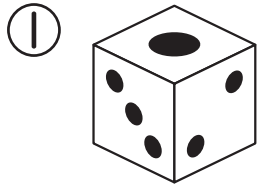




くみ	ばん	なまえ
----	----	-----

## 9 かたちあそび

1 おなじ なかまの かたちを みつけて、ばんごうを ( ) に かきましょう。



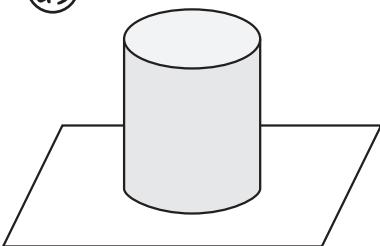
の なかま  
( )

の なかま  
( )

の なかま  
( )

2 つみきを したの ずの ように おいて うつしました。  
かいた えを せんで むすびましょう。

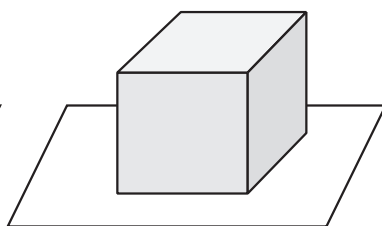
あ




•



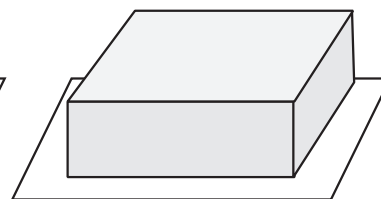
い



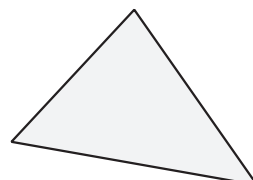
•



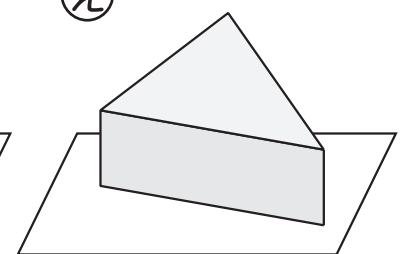
う



•



え



•



ひとつだけ ぬりましょう。



やさしかった



ふつう



むずかしかった



# さんすう ねんおし プリント



10 たしたり ひいたり してみよう①

1年10月(下 p.6~9)

くみ	ばん	なまえ
----	----	-----

## 10 たしたり ひいたり してみよう

1  $9+1+7$                        $7+3+6$                        $5+5+8$

$2+8+5$                        $4+6+9$                        $6+4-5$

$2+8-4$                        $10-8+3$                        $10-5+4$

$10-6-4$                        $10-8+2$                        $10-4+4$



2 かぶとむしが きに 12ひき とまって います。  
 そこから 2ひき とんでいきました。さらに 3ひき  
 とんでいきました。  
 なんびきに なったでしょうか。

しき

こたえ (                      )

3 かぶとむしが きに 12ひき とまって います。  
 そこに 4ひき とんできました。そのあと、6ひき  
 とんでいきました。  
 なんびきに なったでしょうか。

しき

こたえ (                      )

ひとつだけ ぬりましょう。

やさしかった	ふつう	むずかしかった



くみ	ばん	なまえ
----	----	-----

## 10 たしたり ひいたり してみよう



たんじょうび



1 おかあさんが ろうそくを 10ぽん かって きました。  
 いもうとの たんじょうびに 2ぽん, わたしの  
 たんじょうびに 7ぽん つかいました。  
 ろうそくは あと なんぽん のこって いるでしょうか。

しき

こたえ ( )

2 たんじょうびかいに はじめに 7にん ともだちが  
 きました。とちゅうで 3にん ともだちが きました。あとから  
 5にん きました。たんじょうびかいに ともだちは なんにん  
 きたのでしょうか。

しき

こたえ ( )

3 たんじょうびかいで わかざりを つくりました。きんいろの  
 おりがみが 4まい, ぎんいろの おりがみが 6まい  
 あります。そのなかから 8まいの おりがみを つかいました。  
 おりがみは あと なんまい あるでしょうか。

しき

こたえ ( )


ひとつだけ ぬりましょう。

やさしかった	ふつう	むずかしかった



くみ	ばん	なまえ
----	----	-----

## 11 たしざん (じゅんぴ)



1 <sup>あか</sup>赤い おりがみが 6まい、  
<sup>あお</sup>青い おりがみが 3まい あります。  
 おりがみは あわせて なんまい ありますか。

しき

こたえ  まい

2 ひろばに はとが 4わ いました。そこに はとが 5わ  
 とんできました。  
 はとは ぜんぶで なんわに なりましたか。

しき

こたえ  わ

3  に かずを かきましょう。

①  $6 + \square = 10$

②  $8 + \square = 10$

③  $5 + \square = 10$

④  $3 + \square = 10$

⑤  $2 + \square = 10$

⑥  $1 + \square = 10$

⑦  $\square + 3 = 10$

⑧  $\square + 5 = 10$

4 <sup>こ</sup>子どもが こうえんで 7人 <sup>にん</sup>あそんでいます。そこに 3人  
 あそびに きました。また 5人 あそびに きました。  
 ぜんぶで なん人 いますか。

しき

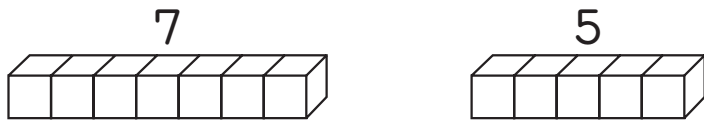
こたえ  人



くみ	ばん	なまえ
----	----	-----

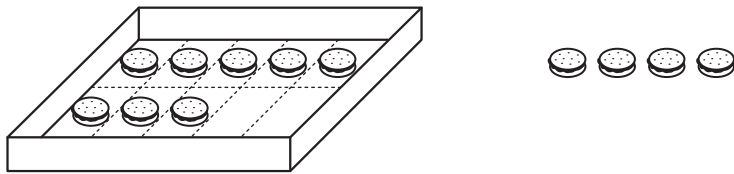
## 11 たしざん

1 7+5の けいさんの しかたを おはなししましょう。



- ① 10をつくるには、7と あと 。
- ② 5を  と  に わける。
- ③ 7と  で 10。
- ④ 10と  で 。

2 おかしが あります。はこに <sup>はい</sup>入っている おかしと、ばらの おかしは、あわせて なんこ あるでしょうか。



しき

こたえ (  )

3 けいさんを しましょう。

- |         |         |         |
|---------|---------|---------|
| ① 7 + 4 | ② 9 + 3 | ③ 6 + 5 |
| ④ 9 + 4 | ⑤ 8 + 4 | ⑥ 7 + 5 |
| ⑦ 9 + 5 | ⑧ 9 + 2 | ⑨ 8 + 3 |

ひとつだけ ぬりましょう。

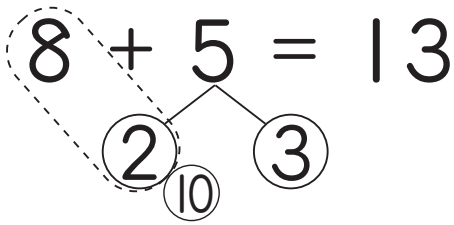




くみ	ばん	なまえ
----	----	-----

## 11 たしざん

1 8+5の けいさんの しかたを おはなししましょう。



まず、10をつくって…



- ① 10をつくるには 8と あと 。
- ② 5を  と  に わける。
- ③ 8と  で 10。
- ④ 10と  で 。

2 けいさんを しましょう。

- |       |       |
|-------|-------|
| ① 9+2 | ② 8+4 |
| ③ 7+5 | ④ 9+3 |
| ⑤ 9+5 | ⑥ 7+4 |
| ⑦ 8+3 | ⑧ 9+4 |

おお  
大きい かずを もとにして、  
10をつくります。



ひとつだけ ぬりましょう。

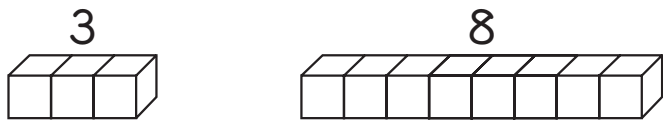




くみ	ばん	なまえ
----	----	-----

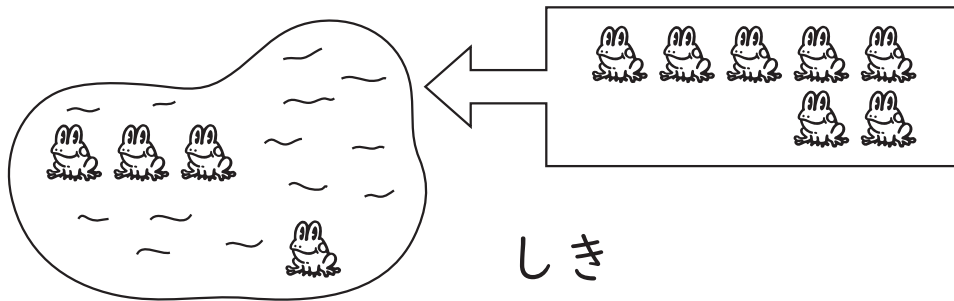
## 11 たしざん

1 3+8の けいさんの しかたを おはなししましょう。



- ① 10をつくるには 8と あと 。
- ② 3を  と  に わける。
- ③ 8と  で 10。
- ④ 10と  で 。

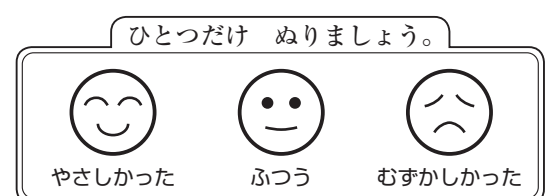
2 いけに かえるが 4ひき います。そこに 7ひき きました。ぜんぶで かえるは なんびきに なったでしょうか。



こたえ (                      )

3 けいさんを しましょう。

- |       |       |       |
|-------|-------|-------|
| ① 4+8 | ② 5+7 | ③ 2+9 |
| ④ 5+8 | ⑤ 4+9 | ⑥ 5+9 |





くみ	ばん	なまえ
----	----	-----

## 11 たしざん

1 おなじ こたえを せんで むすびましょう。

$8+6\cdot$

$\cdot 9+4\cdot$

$\cdot 6+7$

$5+8\cdot$

$\cdot 4+8\cdot$

$\cdot 7+4$

$9+3\cdot$

$\cdot 7+7\cdot$

$\cdot 6+6$

$6+9\cdot$

$\cdot 5+6\cdot$

$\cdot 9+5$

$3+8\cdot$

$\cdot 7+8\cdot$

$\cdot 9+6$

2 きノウ かきを 8こ とりました。きょうも 8こ とりました。あわせて なんこ とったでしょうか。

しき

こたえ ( )

3 9より 8 <sup>おお</sup>大きい かずは、いくつでしょうか。

しき

こたえ ( )

4 <sup>おんな</sup>女の子が <sup>こ</sup>5人 <sup>にん</sup>あそんでいました。そこへ <sup>おとこ</sup>男の子が 6人 やってきて、なかまに <sup>はい</sup>入りました。みんなで なん人に なったでしょうか。

しき

こたえ ( )

ひとつだけ ぬりましょう。







くみ	ばん	なまえ
----	----	-----

## 11 たしざん

1 けいさんを しましょう。

$9+2$	$9+3$	$9+4$	$9+5$	$9+6$	$9+7$	$9+8$	$9+9$
( )	( )	( )	( )	( )	( )	( )	( )

$8+2$	$8+3$	$8+4$	$8+5$	$8+6$	$8+7$	$8+8$	$8+9$
( )	( )	( )	( )	( )	( )	( )	( )

$7+2$	$7+3$	$7+4$	$7+5$	$7+6$	$7+7$	$7+8$	$7+9$
( )	( )	( )	( )	( )	( )	( )	( )

$6+2$	$6+3$	$6+4$	$6+5$	$6+6$	$6+7$	$6+8$	$6+9$
( )	( )	( )	( )	( )	( )	( )	( )



$5+2$	$5+3$	$5+4$	$5+5$	$5+6$	$5+7$	$5+8$	$5+9$
( )	( )	( )	( )	( )	( )	( )	( )

$4+2$	$4+3$	$4+4$	$4+5$	$4+6$	$4+7$	$4+8$	$4+9$
( )	( )	( )	( )	( )	( )	( )	( )

$3+2$	$3+3$	$3+4$	$3+5$	$3+6$	$3+7$	$3+8$	$3+9$
( )	( )	( )	( )	( )	( )	( )	( )

$2+2$	$2+3$	$2+4$	$2+5$	$2+6$	$2+7$	$2+8$	$2+9$
( )	( )	( )	( )	( )	( )	( )	( )

2 まん中の <sup>なか</sup>かずに まわりの かずを たしましょう。



ひとつだけ ぬりましょう。

やさしかった	ふつう	むずかしかった




くみ	ばん	なまえ
----	----	-----

12 ひきざん (じゅんぴ)

1 あめが 8こ あります。3こ たべました。のこりはなんこですか。

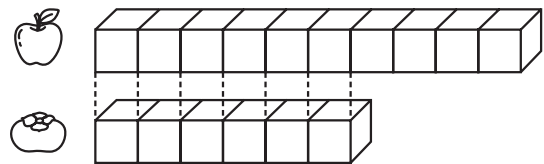
しき



こたえ ( )

2 りんごが 10こ, かきが 6こ あります。どちらがなんこ おおいですか。

しき



こたえ ( )

3 けいさんを しましょう。

- ① 10-8
- ② 10-6
- ③ 10-5
- ④ 10-3
- ⑤ 10-1
- ⑥ 10-7
- ⑦ 10-2
- ⑧ 10-4
- ⑨ 10-9

4 □に かずを かきましょう。

- ① 10 - □ = 1
- ② 10 - □ = 6
- ③ 10 - □ = 2
- ④ □ - 5 = 5
- ⑤ □ - 7 = 3
- ⑥ □ - 3 = 7

5 バスに 10人<sup>にん</sup> のっています。はじめの ていりゅうじよで 7人 おりました。つぎの ていりゅうじよで 4人 のりました。いま, なん人 のっているでしょうか。

しき

こたえ ( )

ひとつだけ ぬりましょう。

やさしかった

ふつう

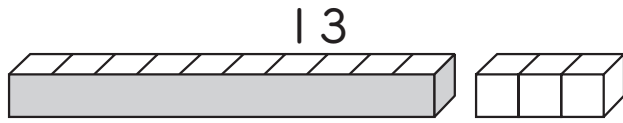
むずかしかった



くみ	ばん	なまえ
----	----	-----

## 12 ひきざん

1 13 - 7の けいさんの しかたを おはなししましょう。



- ① 3 - 7は できない。
- ② 13を 10と  に わける。
- ③ 10から 7を ひいて  。
- ④  と  を たして  。

2 けいさんを しましょう。

- ① 12 - 8
- ② 13 - 8
- ③ 11 - 7
- ④ 14 - 7
- ⑤ 15 - 9
- ⑥ 16 - 9
- ⑦ 14 - 8
- ⑧ 13 - 9

ひとつだけ ぬりましょう。





くみ	ばん	なまえ
----	----	-----

## 12 ひきざん

1 いちごが 12こ あります。3こ たべると のこりは  
なんこでしょうか。



① しきは

② 2 - 3は できない。

12を 10と  に わける。

③ 10から 3を ひいて 。

④  と  を たして 。

$$12 - 3 = \text{}$$

2 けいさんを しましょう。

① 15 - 7

② 11 - 2

③ 15 - 6

④ 17 - 9

⑤ 13 - 4

⑥ 18 - 9

⑦ 13 - 5

⑧ 11 - 3

⑨ 14 - 5

⑩ 17 - 8

⑪ 16 - 7

⑫ 12 - 4

⑬ 12 - 3

⑭ 14 - 6

⑮ 16 - 8

ひとつだけ ぬりましょう。






くみ	ばん	なまえ
----	----	-----

12 ひきざん

1 13 - 6 の けいさんを しましょう。

(1)




$13 - 6 = 7$

③ ④

① 3 - 6 は できない。  
 ② 13 を 10 と 3 に わける。  
 ③ 10 から 6 を ひいて 。  
 ④  と  を たして 。

(2)



$13 - 6 = 7$

③ ④

① 3 - 6 は できない。  
 ② 6 を 3 と 3 に わける。  
 ③ 13 から 3 を ひいて 。  
 ④  から  を ひいて 。

2 れいぞうこに たまごが 11こ <sup>はい</sup>入っていました。なんこか つかったので、いま 5こ のこっています。

なんこ つかったのでしょうか。




しき

こたえ ( )

3 けいさんを しましょう。

- ① 14 - 9                      ② 15 - 8                      ③ 13 - 7
- ④ 12 - 5                      ⑤ 12 - 6                      ⑥ 14 - 7

ひとつだけ ぬりましょう。

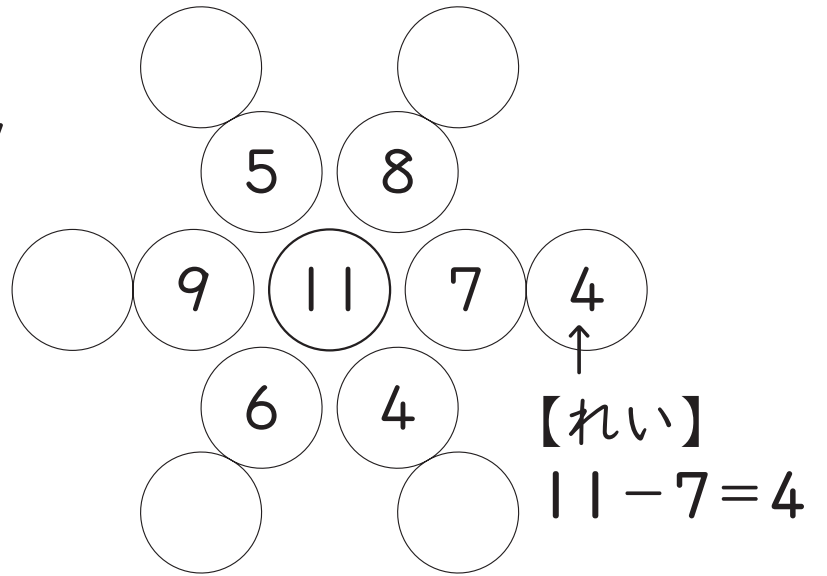
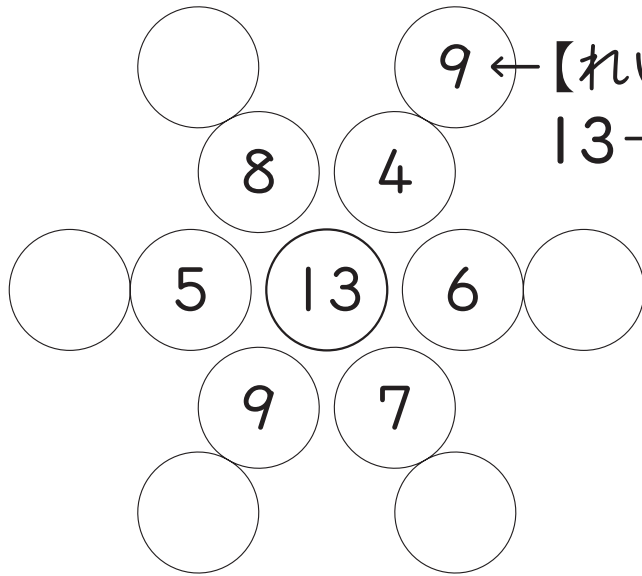
やさしかった      ふつう      むずかしかった



くみ	ばん	なまえ
----	----	-----

## 12 ひきざん

1 まん中の <sup>なか</sup> かずから まわりの かずを ひいて、○にかきましょう。



2 ひいた こたえが 5 になるように、ひきざんの もんだいを つくりましょう。

13 -

14 -

11 -

12 -

3 ひきざんカード 2まいを くらべて、こたえの <sup>おお</sup> 大きいほうを かにに します。

かった カードを ○で かこみましょう。

①  と

②  と

③  と

④  と


⑤  と

⑥  と

⑦  と

⑧  と

ひとつだけ ぬりましょう。





くみ	ばん	なまえ
----	----	-----

## 12 ひきざん

1 けいさんを しましょう。

11-2	11-3	11-4	11-5	11-6	11-7	11-8	11-9
( )	( )	( )	( )	( )	( )	( )	( )

12-2	12-3	12-4	12-5	12-6	12-7	12-8	12-9
( )	( )	( )	( )	( )	( )	( )	( )

13-3	13-4	13-5	13-6	13-7	13-8	13-9
( )	( )	( )	( )	( )	( )	( )

14-4	14-5	14-6	14-7	14-8	14-9
( )	( )	( )	( )	( )	( )



15-5	15-6	15-7	15-8	15-9
( )	( )	( )	( )	( )

16-6	16-7	16-8	16-9
( )	( )	( )	( )

17-7	17-8	17-9
( )	( )	( )

18-8	18-9
( )	( )

2 まん中の <sup>なか</sup>かずから まわりの かずを ひきましょう。



ひとつだけ ぬりましょう。

やさしかった	ふつう	むずかしかった



# さんすう ねんおし プリント



けいさんゲーム  
1年11月(ほじゅう)

くみ	ばん	なまえ
----	----	-----

								青 スタート
	<h2>おんぶしたら 勝ち</h2> <p>◆たしざん◆</p> <p>(1) 2人で やります。</p> <p>(2) じゃんけんで かった 人は「赤 スタート」に おはじきをおきます。(じぶんの けしゴムでも いいです。)</p> <p>(3) じゃんけんで まけた 人は「青 スタート」に おはじきをおきます。(じぶんの けしゴムでも いいです。)</p> <p>(4) 4, 5, 6, 7, 8, 9と かいた さいころを 2こと, 1, 2, 3, 4, 5, 6と かいた さいころを 1こ つくります。</p> <p>(5) 赤の 人が さいころを 2こ えらび, いっしょに ふります。出た かずを たして, こたえの かずだけ すすみます。</p> <p>(6) つぎに 青の 人が おなじように します。</p> <p>(7) あいての おはじきに ちょうど おんぶしたら 勝ちです。</p> <p>◆ひきざん◆</p> <p>(1)~(3), (6)~(7) は, たしざんと おなじです。</p> <p>(4) 11, 12, 13, 14, 15, 16と かいた さいころと, 7, 7, 8, 8, 9, 9と かいた さいころを つくります。</p> <p>(5) 赤の 人が さいころを ふります。出た かずの 大きいほうから 小さいほうを ひいて, こたえの かずだけ すすみます。</p>							
赤 スタート								





# さんすう ねんおし プリント



13 くらべてみよう①  
1年11月～12月 (下p.30～32)

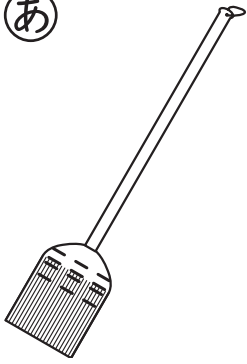
くみ	ばん	なまえ
----	----	-----

## 13 くらべてみよう (ながさくらべ)

1 どちらが ながいでしょうか。ながい ほうの ( ) に  
○を つけましょう。

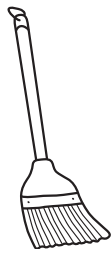
①

あ



( )

い



( )

②

あ



( )

い

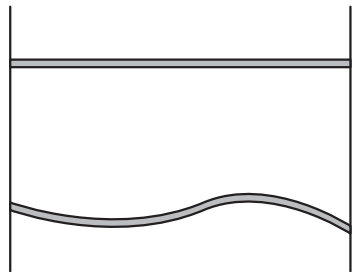


( )

③

あ

( )




い

( )



2 ながい じゆんに 1, 2, 3を かきましよう。

( )



( )



( )



ひとつだけ ぬりましよう。



やさしかった



ふつう



むずかしかった



くみ	ばん	なまえ
----	----	-----

## 13 くらべてみよう (ながさくらべ)

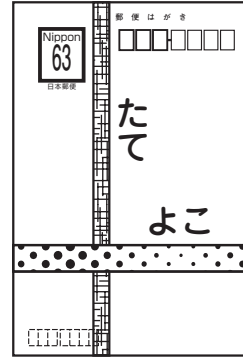
1 どちらが ながいでしょうか。ながい ほうの ( ) に ○ を つけましょう。

①

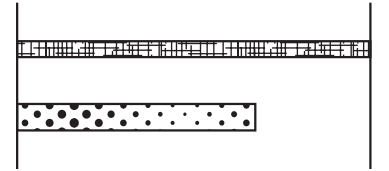


あ ( )      い ( )

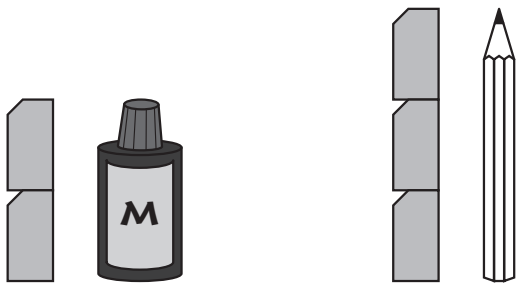
②



あ たて ( )  
い よこ ( )



③





あ ( )      い ( )

④

あ たて ( )  
い よこ ( )



2 どの でん車<sup>しゃ</sup>が ながいでしょうか。  
ながい じゆんに 1, 2, 3 を かきましょう。



ひとつだけ ぬりましょう。

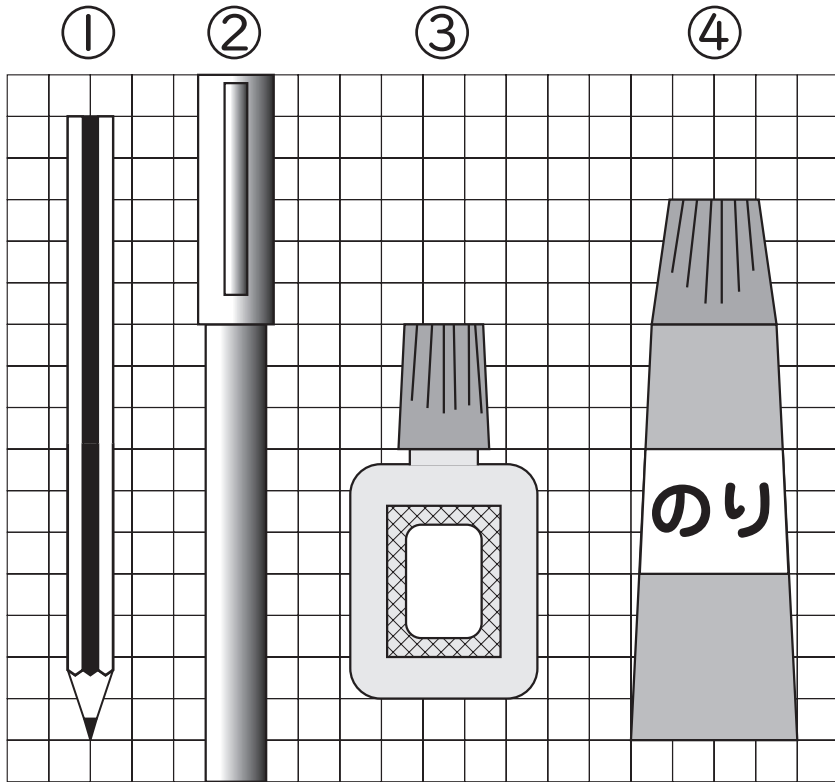
やさしかった	ふつう	むずかしかった



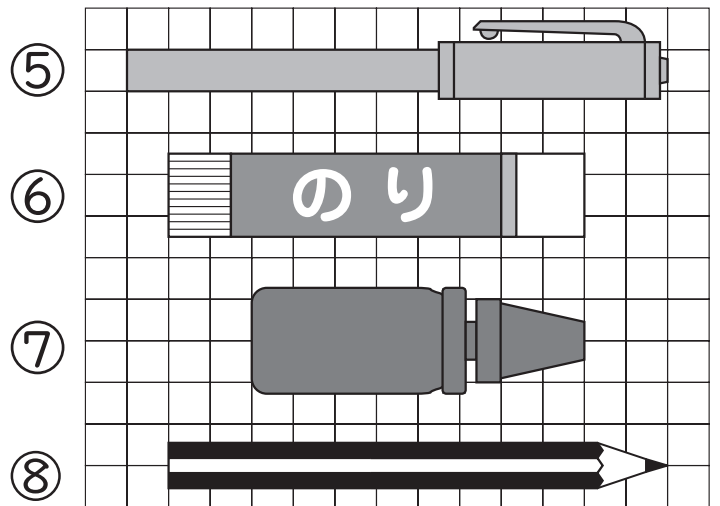
くみ	ばん	なまえ
----	----	-----

## 13 くらべてみよう (ながさくらべ)

1 いろいろな ものの ながさくらべを しましょう。  
それぞれ なんますぶん あるでしょうか。




① ( )ます    ② ( )ます  
③ ( )ます    ④ ( )ます

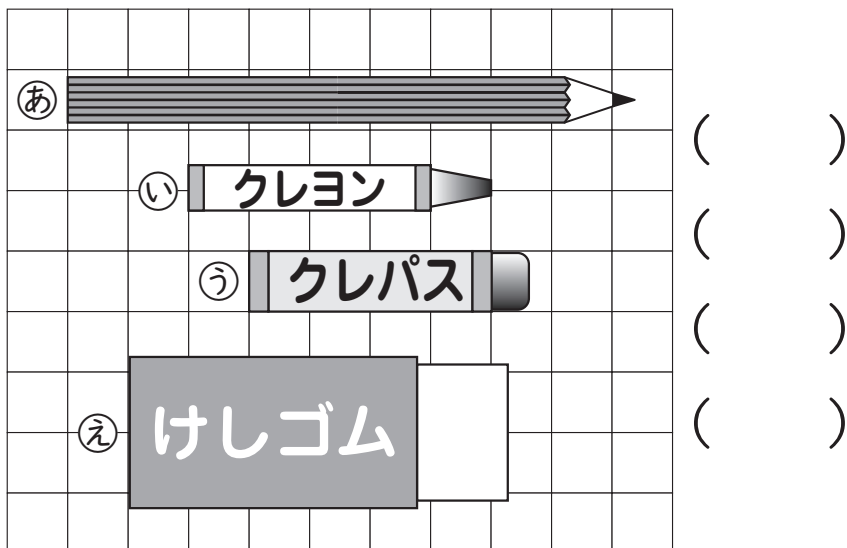


⑤ ( )ます    ⑥ ( )ます  
⑦ ( )ます    ⑧ ( )ます

3 <sup>した</sup>みの まわりの ものを  
下の かみに のせて、  
ながさくらべを しましょう。




2 ながい じゆんに <sup>うえ</sup>上から  
きごうを ならべましょう。



( )  
( )  
( )  
( )

ひとつだけ ぬりましょう。





# さんすう ねんおし プリント



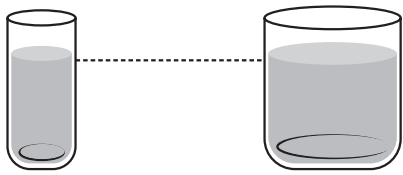
13 くらべてみよう④  
1年11月～12月 (下p.35～37)

くみ	ばん	なまえ
----	----	-----

## 13 くらべてみよう (かさくらべ)


1 どちらが おおいでしょうか。  
おおい ほうに ○を かきましょう。

①




( ) ( )

②



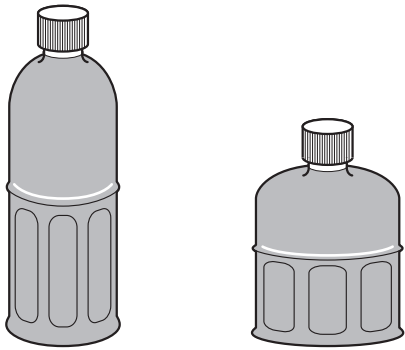
( ) ( )

③




( ) ( )

④



( ) ( )




⑤

( )



で 5 はい

( )



で 8 はい

ひとつだけ ぬりましょう。







くみ	ばん	なまえ
----	----	-----

## 13 くらべてみよう (ひろさくらべ)


1 どの じゅんで ひろいでしょうか。ひろい じゅんに 1, 2, 3を かきましょう。



( )




( )



( )

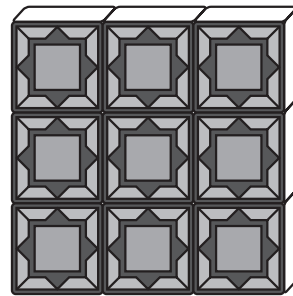
2 どちらが ひろいでしょうか。○を かきましょう。

①

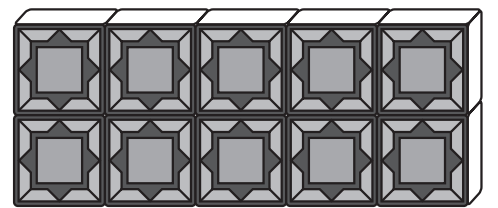


あ ( )


②



あ ( )



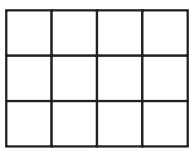
い ( )



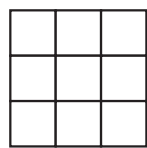
い ( )

3 どの じゅんで ひろいでしょうか。ひろい じゅんに 1, 2, 3を かきましょう。

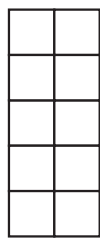
①



ア ( )

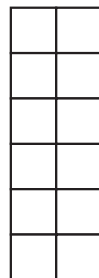


イ ( )

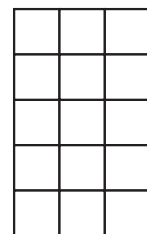


ウ ( )

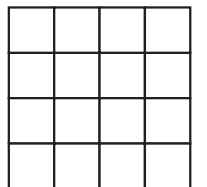
②



ア ( )



イ ( )



ウ ( )

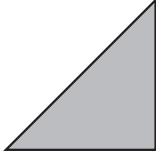
ひとつだけ ぬりましょう。

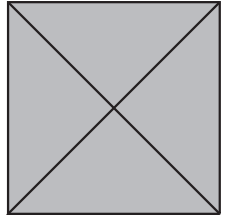




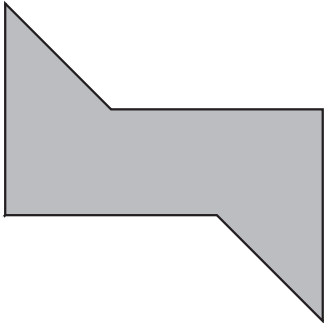
くみ	ばん	なまえ
----	----	-----

## 14 かたちをつくろう

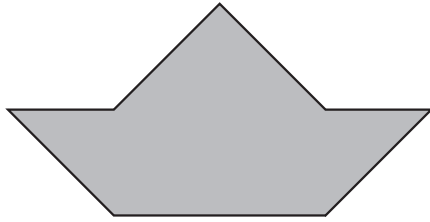
1  の いろいたを 4まい ならべて, 【れい】  
かたちを つくります。【れい】の  
ように せんを ひきましよう。



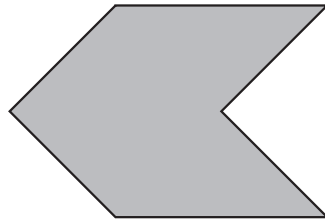
①



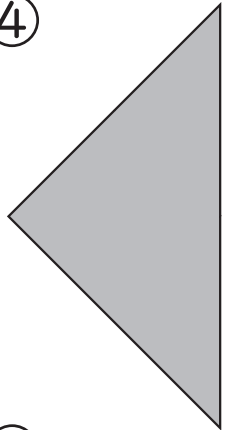
②



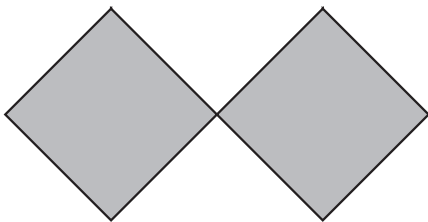
③



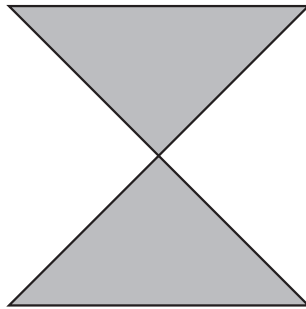
④



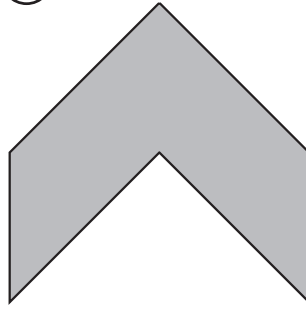
⑤




⑥




⑦



⑧



2 ・と ・を せんで つないで, いろいろな かたちを  
つくりましよう。



ひとつだけ ぬりましよう。





くみ	ばん	なまえ
----	----	-----

## 15 おお 大きい かずを かぞえよう

1 10ずつ まとめて かぞえましょう。

①

□ 10

②

□ 10

③

□ 10 人

④

□ 10

□ わ

⑤

□ 10 人

⑥

□ 10

ひとつだけ ぬりましょう。

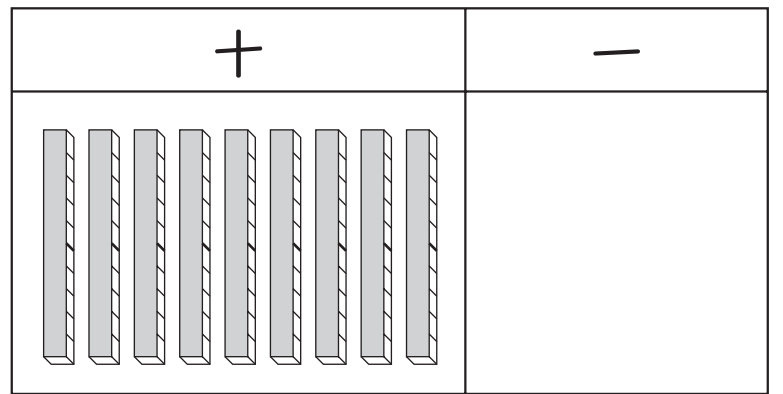

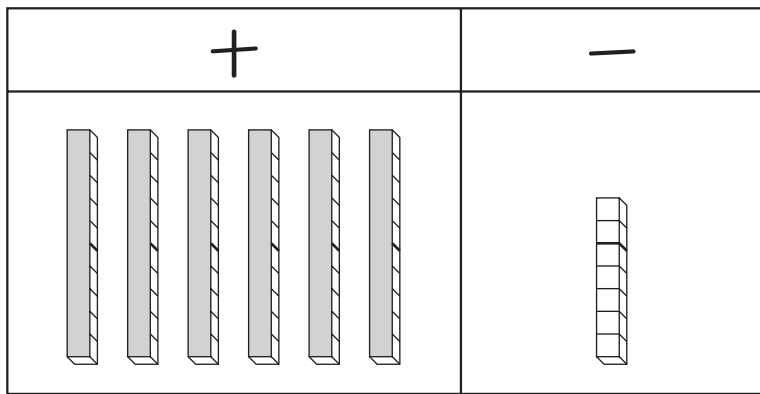
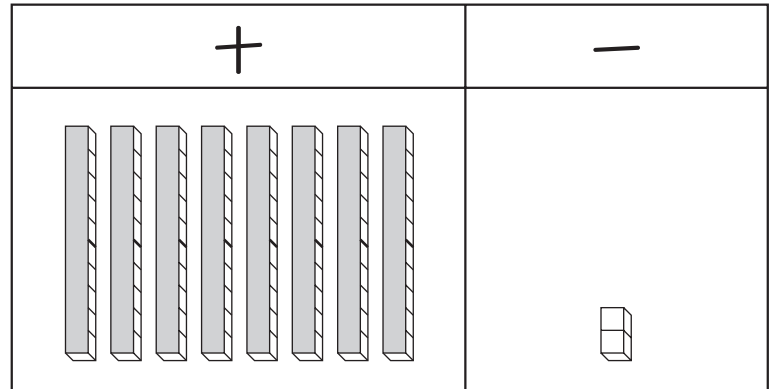
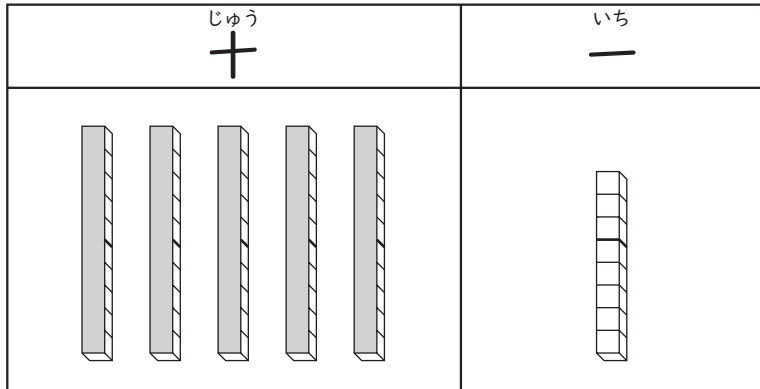
やさしかった	ふつう	むずかしかった



くみ	ばん	なまえ
----	----	-----

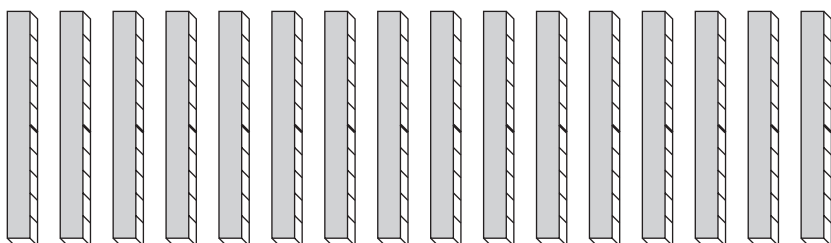
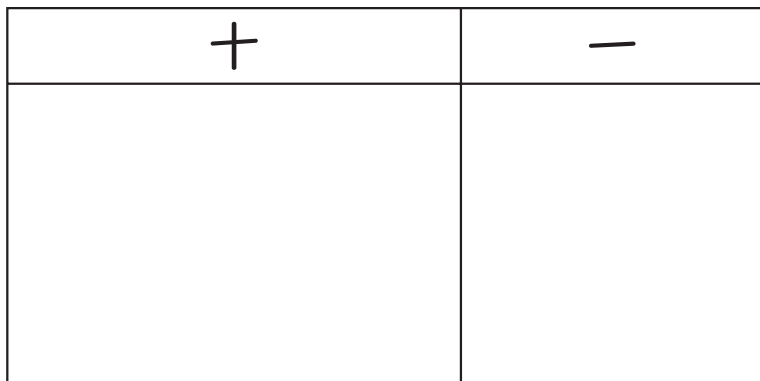
## 15 <sup>おお</sup>大きい かずを かぞえよう

1 つぎの かずを かきましょう。

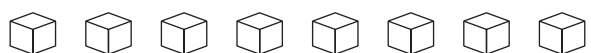
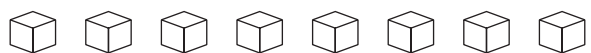
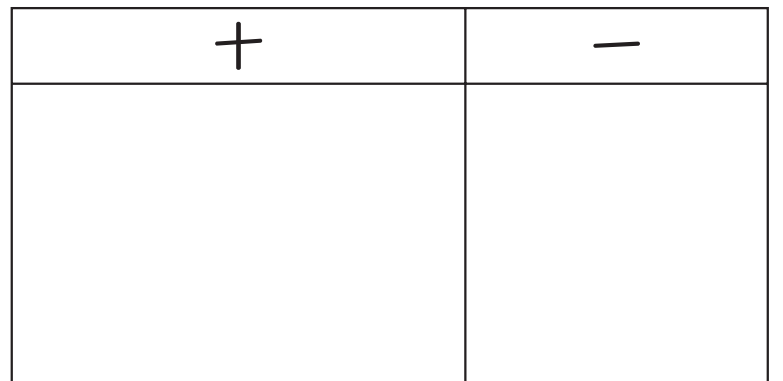


2  の かずだけ を きりとって はりましょう。

5 | 6



7 | 4



ひとつだけ ぬりましょう。

やさしかった	ふつう	むずかしかった





くみ	ばん	なまえ
----	----	-----

## 15 大きい かずを かぞえよう

1 □に かずを かきましょう。

① 10を 4こと 1を 6こ あわせた かずは □です。

② 10を 2こ あつめた かずは □です。

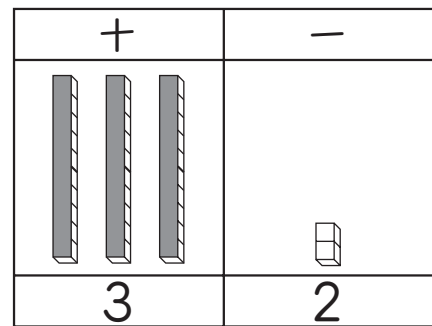
③ □を 4こと □を 2こ あわせた かずは 24です。

④ 30より 7 大きい かずは □です。

⑤ □と 2で 42です。

⑥ 10が 10こで □で, 99より □ 大きい かずです。

⑦ 32は 十じゅうのくらいが □, 一いちのくらいが □です。



⑧ □は 十のくらいが 2, 一のくらいが 5です。

⑨ 46は 十のくらいが □, 一のくらいが □です。

⑩ □は 十のくらいが 3, 一のくらいが 0です。

ひとつだけ ぬりましょう。



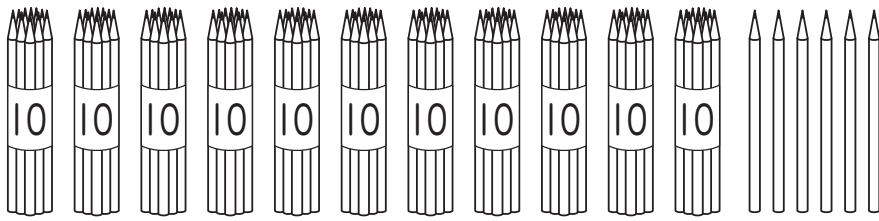




くみ	ばん	なまえ
----	----	-----

## 15 大きい かずを かぞえよう (100 より 大きい かず)

1 なん本<sup>ほん</sup> あるでしょうか。




2 つぎの かずを かきましょう。

①


②


③


3 □ に かずを かきましょう。

①	100	101	□	103	□
②	□	110	□	112	□
③	80	90	□	110	□

ひとつだけ ぬりましょう。

やさしかった	ふつう	むずかしかった

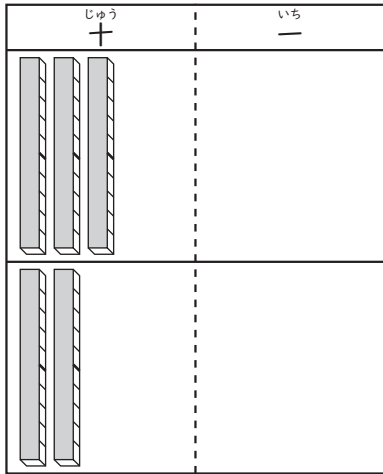


くみ	ばん	なまえ
----	----	-----

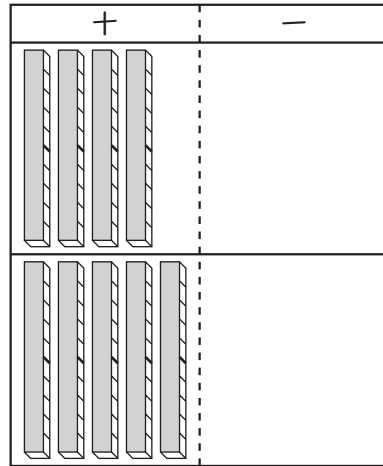
## 15 大きい かずを かぞえよう (たしざんと ひきざん)

1 ずを 見て けいさんを しましょう。

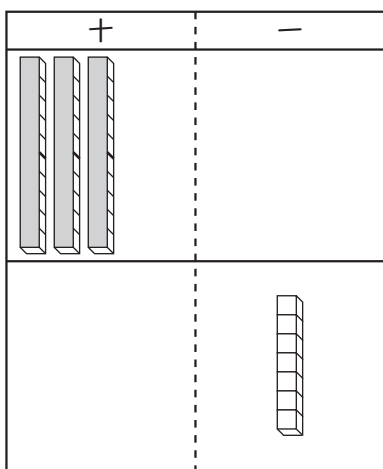
①  $30 + 20$



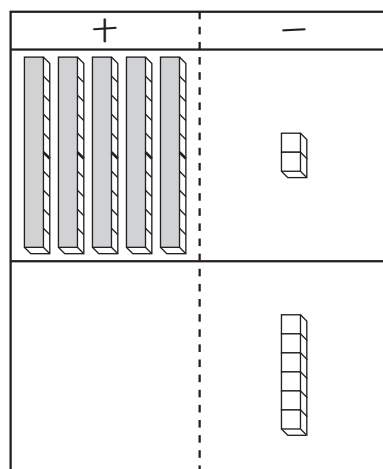
②  $40 + 50$



③  $30 + 7$



④  $52 + 6$



おなじ くらいの  
かずどうし  
けいさんすると  
いいね。



2 けいさんを しましょう。

①  $20 + 40$

②  $30 + 10$

③  $20 + 60$

④  $50 + 40$

⑤  $80 + 6$

⑥  $70 + 5$

⑦  $43 + 3$

⑧  $57 + 2$

⑨  $94 + 5$

⑩  $63 + 4$

ひとつだけ ぬりましょう。





くみ	ばん	なまえ
----	----	-----

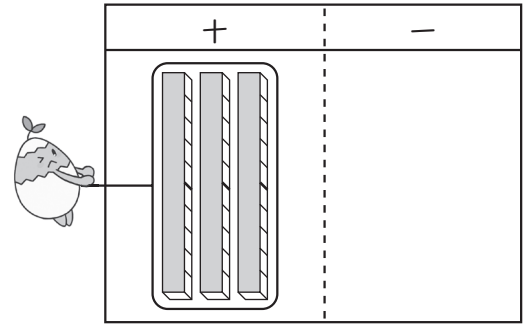
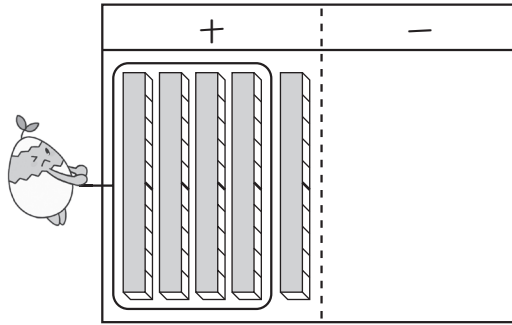
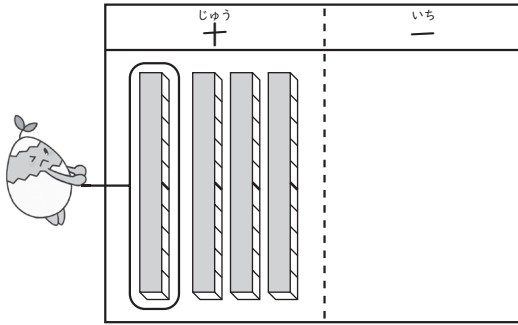
## 15 大きい かずを かぞえよう (たしざんと ひきざん)

1 ずを <sup>み</sup>見て けいさんを しましょう。

① 40-10

② 50-40

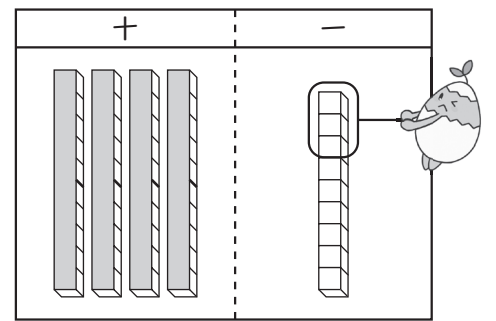
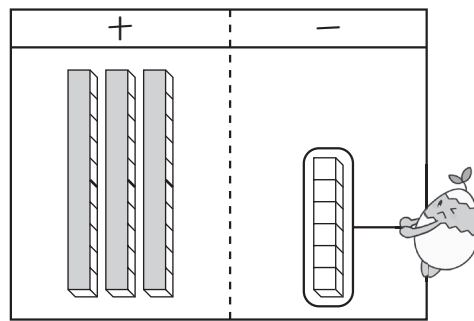
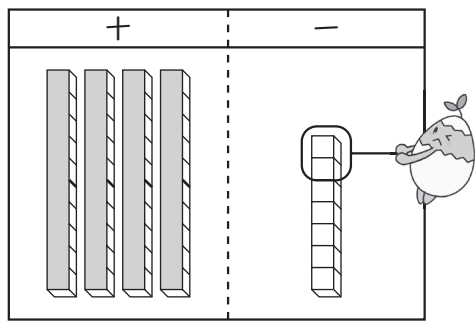
③ 30-30



④ 47-2

⑤ 36-6

⑥ 49-3



おなじ くらいの  
かずどうし  
けいさんすると いいね。

2 けいさんを しましょう。

① 80-40

② 60-10

③ 70-30

④ 100-50

⑤ 48-5

⑥ 79-7

⑦ 74-4

⑧ 28-5

⑨ 39-6

⑩ 53-3



ひとつだけ ぬりましょう。

やさしかった	ふつう	むずかしかった



くみ	ばん	なまえ
----	----	-----

## 15 大きい かずを かぞえよう (すごろく)

かずを かいて、すごろくをつくって やりましょう。

(もどり、<sup>やす</sup>休み、ちかみちを、2かしょずつ つくりましょう。)

ゴール

100

やれやれ  
2かい  
休み

ちかみち

10まで  
もどる

スタート

2

1

0





くみ	ばん	なまえ
----	----	-----



## 16 なんじなんぷん



ひとつだけ ぬりましょう。

やさしかった	ふつう	むずかしかった


1 なんじなんぷんでしょうか。おなじ  
じこくを あらわす ものを せんで むすびましょう。  
( ) の <sup>なか</sup>中に, よみかたを かきましょう。


①  . .  ( )


②  . .  ( )


③  . .  ( )


2 なんじなんぷんでしょうか。


①  ( )

②  ( )

③  ( )

④  ( )

⑤  ( )

⑥  ( )



# さんすう ねんおし プリント



17 たすのかな ひくのかな  
ずにかいて かんがえよう①

1年2月 (下p.63～64)

くみ	ばん	なまえ
----	----	-----

## 17 たすのかな ひくのかな ずにかいて かんがえよう

1 ずにかいて かんがえましょう。

- ① <sup>こ</sup>子どもが 12 <sup>にん</sup>人 ならんでいます。ゆいさんは <sup>ひだり</sup>左から  
8 <sup>め</sup>ばん目です。  
ゆいさんの <sup>みぎ</sup>右には なん人 いますか。

ず

しき

こたえ ( )




- ② 子どもが 1 <sup>れつ</sup>つに ならんでいます。ひろとさんは  
まえから 7 <sup>め</sup>ばん目です。ひろとさんの うしろに 9人  
います。みんなで なん人 いますか。

ず

しき

こたえ ( )

ひとつだけ ぬりましょう。

		
やさしかった	ふつう	むずかしかった





# さんすう ねんおし プリント



17 たすのかな ひくのかな  
ずにかいて かんがえよう②

1年2月 (下p.65 ~ 66)

くみ	ばん	なまえ
----	----	-----

## 17 たすのかな ひくのかな ずにかいて かんがえよう

1 ずにかいて かんがえましょう。

- ① 5人が がようしを 1まいずつ もっています。  
 がようしは あと 8まい のこっています。  
 がようしは ぜんぶで なんまい ありますか。

ず

しき

こたえ ( )




- ② かしがさが 14本 あります。雨が ふってきたので、  
 6人が かさを かりました。  
 かしがさは なん本 のこっていますか。

ず

しき

こたえ ( )

ひとつだけ ぬりましょう。

		
やさしかった	ふつう	むずかしかった



くみ	ばん	なまえ
----	----	-----

## 17 たすのかな ひくのかな ずにかいて かんがえよう

1 ずにかいて かんがえましょう。

① ひよこが 9わ います。にわとりは ひよこより 8わ  
おおいです。

にわとりは なんわ いますか。

ず

しき

こたえ ( )

② どうわの <sup>ほん</sup>本が 8さつ あります。まんがの 本は、  
どうわの 本より 6さつ おおいです。




まんがの 本は、なんさつ ありますか。

ず

しき

こたえ ( )

ひとつだけ ぬりましょう。

		
やさしかった	ふつう	むずかしかった



# さんすう ねんおし プリント



17 たすのかな ひくのかな  
ずにかいて かんがえよう④

1年2月 (下p.68)

くみ	ばん	なまえ
----	----	-----

## 17 たすのかな ひくのかな ずにかいて かんがえよう

1 ずにかいて かんがえましょう。

- ① <sup>あか</sup>赤い <sup>はな</sup>花が <sup>ほん</sup>9本 あります。<sup>しろ</sup>白い 花は 赤い花より  
3本 すくないです。  
白い 花は 何本 ありますか。  
ず

しき




こたえ ( )

- ② ずかんの 本が 15さつ あります。おはなしの 本は、  
ずかんの 本より 7さつ すくないです。  
おはなしの 本は なんさつ ありますか。  
ず

しき

こたえ ( )

ひとつだけ ぬりましょう。

		
やさしかった	ふつう	むずかしかった




くみ	ばん	なまえ
----	----	-----

## 18 かずしらべ

1 そだててみたい やさいのカードを、1人1つずつ えらんで、こくばんに はりました。

ひとつだけ ぬりましょう。

やさしかった	ふつう	むずかしかった



① それぞれの やさいをえらんだ 人ずうをかぞえるには、どうすれば よいでしょうか。

( )

② 上のカードの かずだけ、いろを ぬりましょう。

③ 人ずうが いちばん おおい やさいは どれですか。

( ) で ( ) 人

④ トマトを えらんだ 人は、なすを えらんだ 人より なん人 おおいですか。

( ) 人 おおい。

### そだてたい やさい

トマト	きゅうり	なす	ことうもろ	すいか	さつまいも

なす	さつまいも	とうもろこし	トマト	とうもろこし	すいか	トマト	すいか
とうもろこし	すいか	きゅうり	すいか	きゅうり	さつまいも	きゅうり	トマト
とうもろこし	トマト	とうもろこし	すいか	さつまいも	なす	さつまいも	
さつまいも		とうもろこし		きゅうり		なす	

上のカードの なまえだよ。

