





くみ	ばん	なまえ
----	----	-----

5 のこりは いくつ ちがいは いくつ

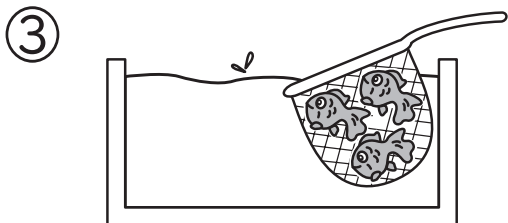
1 えを みて, □に すうじを かきましょう。




$3 - \square = \square$



$3 - \square = \square$



$\square - \square = \square$



$\square - \square = \square$

2 ひきざんを しましょう。

$6 - 1$

$10 - 4$

$5 - 0$

$9 - 5$

$7 - 7$

$10 - 6$

$7 - 5$

$8 - 0$

$0 - 0$

ひとつだけ ぬりましょう。

