



さんすう ねんおし プリント



5 のこりは いくつ ちがいは いくつ①


1年6月~7月 (p.54~60)

くみ	ばん	なまえ
----	----	-----

5 のこりは いくつ ちがいは いくつ (のこりは いくつ)

1 えをみて、しきと こたえをかきましょう。

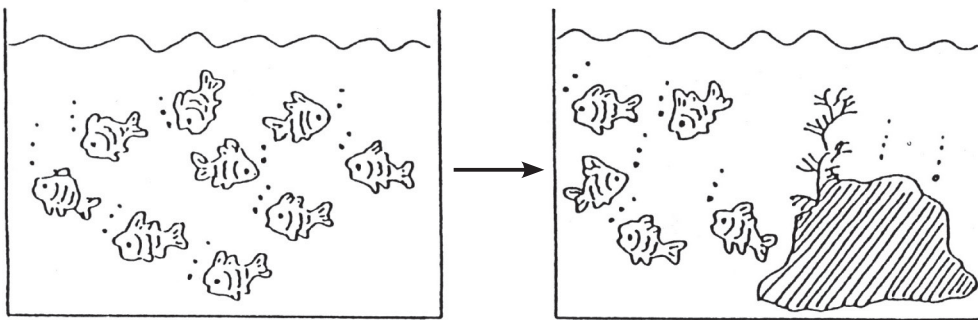
① のこった ふうせんは なんこ？



$$\square - \square = \square$$

こたえ こ

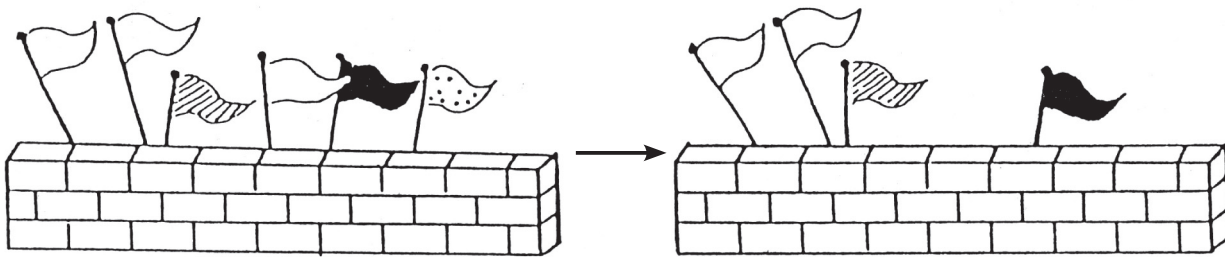
② かくれた さかなは なんびき？



$$\square - \square = \square$$

こたえ ひき

③ たおれた はたは なんぼん？



$$\square - \square = \square$$

こたえ ぼん

④ ほんが 9さつ あります。5さつは えほんです。あとは まんがです。まんがの ほんは なんさつでしょうか。



$$\square - \square = \square$$

こたえ さつ

ひとつだけ ぬりましょう。

