



さんすう ねんおし プリント




4 あわせて いくつ ふえると いくつ④

1年5月～6月 (p.51)



くみ	ばん	なまえ
----	----	-----

4 あわせて いくつ ふえると いくつ

1 えをみて, □に すうじを かきましょう。



$3 + \square = \square$



$\square + 2 = \square$

2 たしざんを しましょう。

$1 + 7$

$6 + 2$

$5 + 4$

$8 + 2$

$7 + 3$

$1 + 8$

$4 + 2$

$1 + 9$

$5 + 0$

$0 + 7$

$4 + 4$

$0 + 0$

$1 + 6$

$5 + 5$

$8 + 0$

$9 + 1$

$2 + 7$

$0 + 6$

ひとつだけ ぬりましょう。



やさしかった



ふつう



むずかしかった