



さんすう ねんおし プリント



13 くらべてみよう①
1年11月～12月 (下p.30～32)

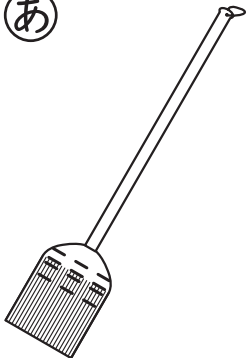
くみ	ばん	なまえ
----	----	-----

13 くらべてみよう (ながさくらべ)

1 どちらが ながいでしょうか。ながい ほうの () に ○ を つけましょう。

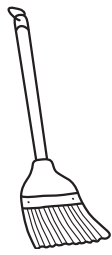
①

あ



()

い



()

②

あ



()

い

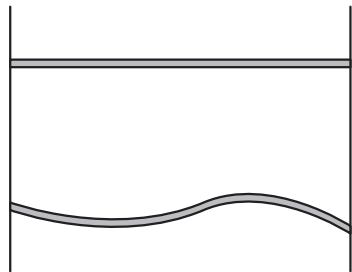


()

③

あ

()




い

()



2 ながい じゆんに 1, 2, 3 を かきましよう。

()



()



()



ひとつだけ ぬりましよう。



やさしかった



ふつう



むずかしかった