



くみ	ばん	なまえ
----	----	-----

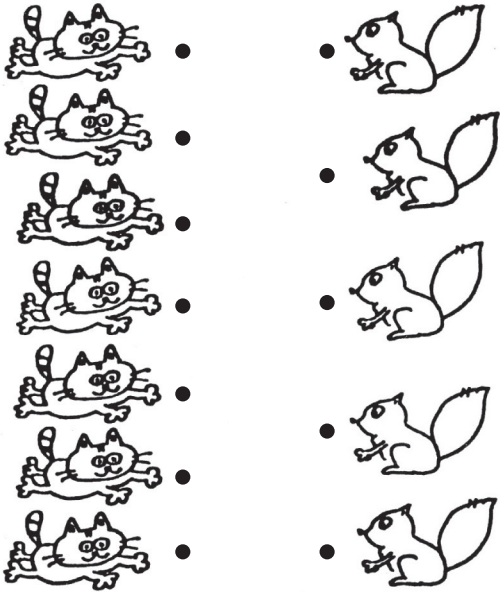
ひとつだけ ぬりましょう。



1 10までの かず


1 どちらが おおい か せんを むすんで くらべましょう。

① ねこ と りす



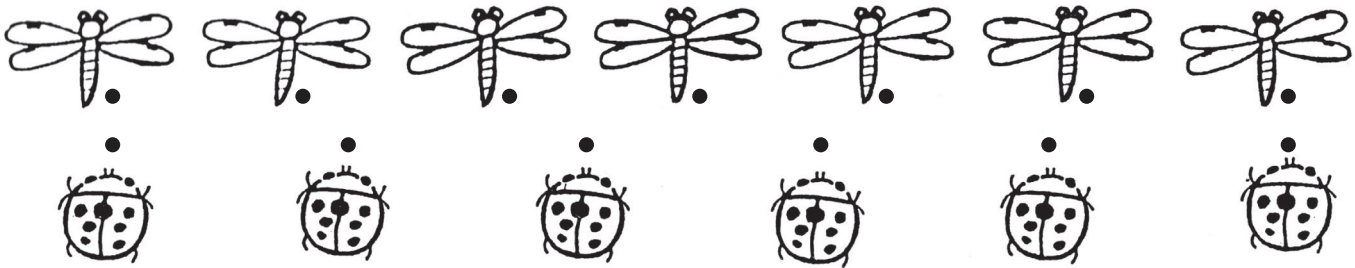
の ほうが おおい。

② うさぎ と ねずみ



の ほうが おおい。


③ とんぼ と てんとうむし



の ほうが おおい。


2 どちらが おおい でしょうか。□に かずを かきましょう。

① おたまじゃくし かえる



の ほうが おおい。

② ちょう はち



の ほうが おおい。