




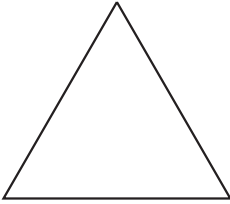


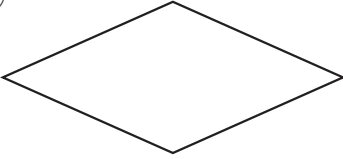
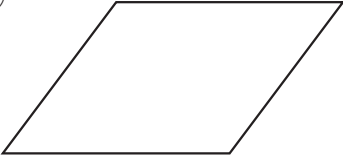
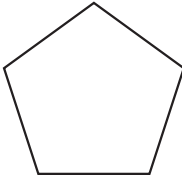
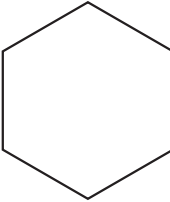
	組	番	名前
--	---	---	----

**7** たいしょう 対称 (多角形と対称)

ひとつだけ ぬりましょう。

		
やさしかった	ふつう	むずかしかった

1 これまでに学習した図形を、線対称な図形か点対称な図形で仲間分けしてみましょう。

	形の名前	線対称なら○	対称の軸の本数 (図にかき入れよう)	点対称なら○
あ				
い				
う				
え				
お				
か				
き				
く	