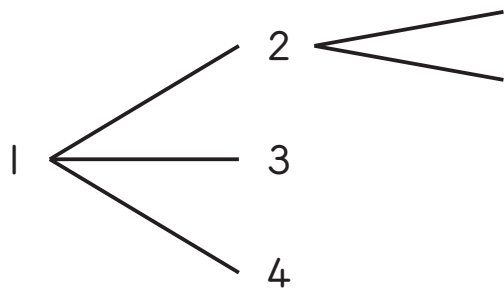


組	番	名前
---	---	----

① ならべ方と組み合わせ方 (ならべ方)

1 のカードが1枚ずつあります。全部使って4けたの整数を作るとき、次の問いに答えましょう。

① 千の位を1としたときできる数を、次の図に表しました。続きを書きましょう。






② ①のようにして考えると、4けたの整数は全部で何通りできるでしょうか。
(求め方)

答え ()

2 1の4枚のカードのうち、3枚使って3けたの整数を作ります。整数は何通りできますか。
(求め方)

答え ()

ひとつだけ ぬりましょう。

 やさしかった	 ふつう	 むずかしかった
---	--	--