

組	番	名前
---	---	----

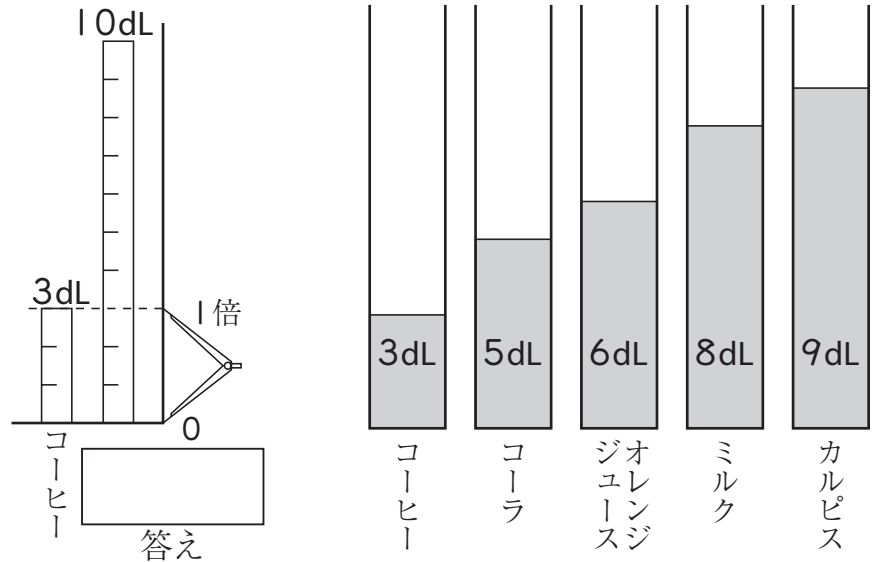
● 倍の計算 ひまわりを育てよう

1 ジュースやコーヒー，ミルクなどが，右のようにならんでいます。□にあてはまる数やことばを書きましょう。

- ① コーヒーの3倍のかさがある飲み物は，どれでしょうか。
- コーヒーの3dLを1倍分としてコンパスにとり，そのコンパスで3倍をとると目もりは

□ dLとなる。

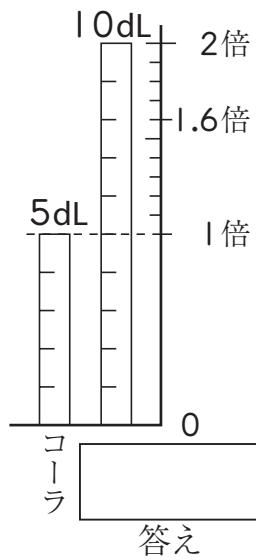
• 計算では $3\text{dL} \times 3 = \square \text{dL}$



- ② コーラの1.6倍のかさがある飲み物は，どれでしょうか。

- コーラの5dLを1倍分としてコンパスにとり，1倍と2倍をメモする。その間を10等分して，0.1倍の目もりを作り，1.6倍を決めて目もりを読めば，□ dLとなっている。

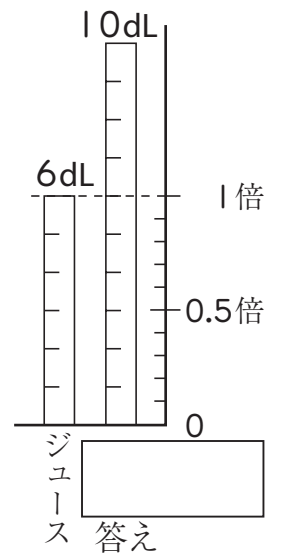
• 計算では $5\text{dL} \times 1.6 = \square \text{dL}$



- ③ オレンジジュースの0.5倍のかさがある飲み物は，どれでしょうか。

- オレンジジュースの6dLを1倍分として，0.5倍は1倍より小さいから，1倍分を10等分して0.1倍の目もりを作り，その0.5倍の目もりを見ると□ dLとなっている。

• 計算では $6\text{dL} \times 0.5 = \square \text{dL}$



こんどは計算で，求めましょう。

- ④ コーヒー 3dLのかさの2倍の飲み物は，□ dLになるから，□ である。
- ⑤ コーラ 5dLのかさの1.8倍の飲み物は，□ dLになるから，□ である。
- ⑥ コーラ 5dLのかさの0.6倍の飲み物は，□ dLになるから，□ である。

2 □にあてはまる数を求めましょう。

- ① 8mは4mの□倍です。
- ② 8Lは10Lの□倍です。
- ③ 10mは4mの□倍です。
- ④ 8kgの3倍は□kgです。
- ⑤ 2Lの2.5倍は□Lです。
- ⑥ 5kgの0.7倍は□kgです。

ひとつだけ ぬりましょう。

